

АНО ВО «МЕЖРЕГИОНАЛЬНЫЙ ОТКРЫТЫЙ СОЦИАЛЬНЫЙ ИНСТИТУТ»

УТВЕРЖДАЮ
Начальник УМУ
 / Н.Е. Губина
« 29 » февраля 2024 г.

РАБОЧАЯ ПРОГРАММА УЧЕБНОЙ ДИСЦИПЛИНЫ

по дисциплине	Физика
Специальность	31.02.01 Лечебное дело
Квалификация выпускника	фельдшер
Форма обучения	очная
Срок обучения	3 года 10 месяцев на базе основного общего образования

Йошкар-Ола
2024 г.

СОДЕРЖАНИЕ

1. ОБЩАЯ ХАРАКТЕРИСТИКА РАБОЧЕЙ ПРОГРАММЫ УЧЕБНОЙ ДИСЦИПЛИНЫ	3
2. СТРУКТУРА И СОДЕРЖАНИЕ УЧЕБНОЙ ДИСЦИПЛИНЫ	13
3. УСЛОВИЯ РЕАЛИЗАЦИИ УЧЕБНОЙ ДИСЦИПЛИНЫ	21
4. КОНТРОЛЬ И ОЦЕНКА РЕЗУЛЬТАТОВ ОСВОЕНИЯ УЧЕБНОЙ ДИСЦИПЛИНЫ	22
Приложение к РПУД	24

1. ОБЩАЯ ХАРАКТЕРИСТИКА РАБОЧЕЙ ПРОГРАММЫ УЧЕБНОЙ ДИСЦИПЛИНЫ

1.1 Область применения программы

Программа учебной дисциплины «Физика» является частью основной профессиональной образовательной программы в соответствии с ФГОС СПО по специальности 31.02.01 Лечебное дело.

Рабочая программа может быть использована в дополнительном профессиональном образовании в рамках реализации программ переподготовки кадров.

1.2 Место дисциплины в структуре основной образовательной программы: Учебная дисциплина «Физика» относится к базовым дисциплинам основной образовательной программы и разработана в соответствии с ФГОС СОО, ФГОС СПО по специальности 31.02.01 Лечебное дело.

1.3 Цели и планируемые результаты освоения дисциплины:

Содержание программы общеобразовательной дисциплины «Физика» направлено на достижение следующих целей:

- формирование у обучающихся уверенности в ценности образования, значимости физических знаний для современного квалифицированного специалиста при осуществлении его профессиональной деятельности;
- формирование естественно-научной грамотности;
- овладение специфической системой физических понятий, терминологией и символикой;
- освоение основных физических теорий, законов, закономерностей;
- овладение основными методами научного познания природы, используемыми в физике (наблюдение, описание, измерение, выдвижение гипотез, проведение эксперимента);
- овладение умениями обрабатывать данные эксперимента, объяснять полученные результаты, устанавливать зависимости между физическими величинами в наблюдаемом явлении, делать выводы;
- формирование умения решать физические задачи разных уровней сложности;
- развитие познавательных интересов, интеллектуальных и творческих способностей в процессе приобретения знаний с использованием различных источников информации и современных информационных технологий; умений формулировать и обосновывать собственную позицию по отношению к физической информации, получаемой из разных источников;

В рамках программы учебной дисциплины обучающимися должны быть сформированы

Код ПК, ОК	Общие результаты ¹	Дисциплинарные результаты ²
ОК 01. Выбирать способы решения задач профессиональной деятельности применительно к различным контекстам	В части трудового воспитания: - готовность к труду, осознание ценности мастерства, трудолюбие; - готовность к активной деятельности технологической и	- сформировать представления о роли и месте физики и астрономии в современной научной картине мира, о системообразующей роли физики в развитии естественных наук, техники и современных технологий, о

¹ Указываются личностные и метапредметные результаты из ФГОС СОО (в последней редакции от 12.08.2022) в отглаженной форме, формируемые общеобразовательной дисциплиной

² Дисциплинарные (предметные) результаты указываются в соответствии с их полным перечнем во ФГОС СОО (в последней редакции от 12.08.2022) для базового уровня обучения

	<p>социальной направленности, способность инициировать, планировать и самостоятельно выполнять такую деятельность;</p> <ul style="list-style-type: none"> - интерес к различным сферам профессиональной деятельности. <p>Овладение универсальными учебными познавательными действиями:</p> <p>а) базовые логические действия:</p> <ul style="list-style-type: none"> - самостоятельно формулировать и актуализировать проблему, рассматривать ее всесторонне; - устанавливать существенный признак или основания для сравнения, классификации и обобщения; - определять цели деятельности, задавать параметры и критерии их достижения; - выявлять закономерности и противоречия в рассматриваемых явлениях; - вносить коррективы в деятельность, оценивать соответствие результатов целям, оценивать риски последствий деятельности; - развивать креативное мышление при решении жизненных проблем <p>б) базовые исследовательские действия:</p> <ul style="list-style-type: none"> - владеть навыками учебно-исследовательской и проектной деятельности, навыками разрешения проблем; - выявлять причинно-следственные связи и актуализировать задачу, выдвигать гипотезу ее решения, находить аргументы для доказательства своих утверждений, задавать 	<p>вкладе российских и зарубежных ученых-физиков в развитие науки; понимание физической сущности наблюдаемых явлений микромира, макромира и мегамира; понимание роли астрономии в практической деятельности человека и дальнейшем научно-техническом развитии, роли физики в формировании кругозора и функциональной грамотности человека для решения практических задач;</p> <ul style="list-style-type: none"> - сформировать умения решать расчетные задачи с явно заданной физической моделью, используя физические законы и принципы; на основе анализа условия задачи выбирать физическую модель, выделять физические величины и формулы, необходимые для ее решения, проводить расчеты и оценивать реальность полученного значения физической величины; решать качественные задачи, выстраивая логически непротиворечивую цепочку рассуждений с опорой на изученные законы, закономерности и физические явления; - владеть основополагающими физическими понятиями и величинами, характеризующими физические процессы (связанными с механическим движением, взаимодействием тел, механическими колебаниями и волнами; атомно-молекулярным строением вещества, тепловыми процессами; электрическим и магнитным полями, электрическим током, электромагнитными колебаниями и волнами;
--	--	--

	<p>параметры и критерии решения;</p> <ul style="list-style-type: none"> - анализировать полученные в ходе решения задачи результаты, критически оценивать их достоверность, прогнозировать изменение в новых условиях; - уметь переносить знания в познавательную и практическую области жизнедеятельности; - уметь интегрировать знания из разных предметных областей; - выдвигать новые идеи, предлагать оригинальные подходы и решения; - способность их использования в познавательной и социальной практике. 	<p>оптическими явлениями; квантовыми явлениями, строением атома и атомного ядра, радиоактивностью); владение основополагающими астрономическими понятиями, позволяющими характеризовать процессы, происходящие на звездах, в звездных системах, в межгалактической среде; движение небесных тел, эволюцию звезд и Вселенной;</p> <ul style="list-style-type: none"> - владеть закономерностями, законами и теориями (закон всемирного тяготения, I, II и III законы Ньютона, закон сохранения механической энергии, закон сохранения импульса, принцип суперпозиции сил, принцип равноправности инерциальных систем отсчета; молекулярно-кинетическую теорию строения вещества, газовые законы, первый закон термодинамики; закон сохранения электрического заряда, закон Кулона, закон Ома для участка цепи, закон Ома для полной электрической цепи, закон Джоуля - Ленца, закон электромагнитной индукции, закон сохранения энергии, закон прямолинейного распространения света, закон отражения света, закон преломления света; закон сохранения энергии, закон сохранения импульса, закон сохранения электрического заряда, закон сохранения массового числа, постулаты Бора, закон радиоактивного распада); уверенное использование законов и закономерностей при анализе физических явлений и процессов.
ОК 02. Использовать современные средства	В области ценности научного познания:	-уметь учитывать границы применения изученных

<p>поиска, анализа и интерпретации информации, и информационные технологии для выполнения задач профессиональной деятельности</p>	<p>- сформированность мировоззрения, соответствующего современному уровню развития науки и общественной практики, основанного на диалоге культур, способствующего осознанию своего места в поликультурном мире;</p> <p>- совершенствование языковой и читательской культуры как средства взаимодействия между людьми и познания мира;</p> <p>- осознание ценности научной деятельности, готовность осуществлять проектную и исследовательскую деятельность индивидуально и в группе.</p> <p>Овладение универсальными учебными познавательными действиями:</p> <p>в) работа с информацией:</p> <p>- владеть навыками получения информации из источников разных типов, самостоятельно осуществлять поиск, анализ, систематизацию и интерпретацию информации различных видов и форм представления;</p> <p>- создавать тексты в различных форматах с учетом назначения информации и целевой аудитории, выбирая оптимальную форму представления и визуализации;</p> <p>- оценивать достоверность, легитимность информации, ее соответствие правовым и морально-этическим нормам;</p> <p>- использовать средства информационных и коммуникационных технологий в решении когнитивных, коммуникативных и</p>	<p>физических моделей: материальная точка, инерциальная система отсчета, идеальный газ; модели строения газов, жидкостей и твердых тел, точечный электрический заряд, ядерная модель атома, нуклонная модель атомного ядра при решении физических задач.</p>
---	--	--

	<p>организационных задач с соблюдением требований эргономики, техники безопасности, гигиены, ресурсосбережения, правовых и этических норм, норм информационной безопасности;</p> <p>- владеть навыками распознавания и защиты информации, информационной безопасности личности.</p>	
<p>ОК 03. Планировать и реализовывать собственное профессиональное и личностное развитие, предпринимательскую деятельность в профессиональной сфере, использовать знания по финансовой грамотности в различных жизненных ситуациях</p>	<p>В области духовно-нравственного воспитания:</p> <ul style="list-style-type: none"> - сформированность нравственного сознания, этического поведения; - способность оценивать ситуацию и принимать осознанные решения, ориентируясь на морально-нравственные нормы и ценности; - осознание личного вклада в построение устойчивого будущего; - ответственное отношение к своим родителям и (или) другим членам семьи, созданию семьи на основе осознанного принятия ценностей семейной жизни в соответствии с традициями народов России; <p>Овладение универсальными регулятивными действиями:</p> <p>а) самоорганизация:</p> <ul style="list-style-type: none"> - самостоятельно осуществлять познавательную деятельность, выявлять проблемы, ставить и формулировать собственные задачи в образовательной деятельности и жизненных ситуациях; - самостоятельно составлять план решения проблемы с учетом имеющихся ресурсов, собственных возможностей и предпочтений; 	<ul style="list-style-type: none"> - владеть основными методами научного познания, используемыми в физике: проводить прямые и косвенные измерения физических величин, выбирая оптимальный способ измерения и используя известные методы оценки погрешностей измерений, проводить исследование зависимостей физических величин с использованием прямых измерений, объяснять полученные результаты, используя физические теории, законы и понятия, и делать выводы; соблюдать правила безопасного труда при проведении исследований в рамках учебного эксперимента и учебно-исследовательской деятельности с использованием цифровых измерительных устройств и лабораторного оборудования; сформированность представлений о методах получения научных астрономических знаний - овладеть (сформировать представления) правилами записи физических формул рельефно-точечной системы обозначений Л. Брайля (для слепых и слабовидящих обучающихся).

	<p>- давать оценку новым ситуациям; способствовать формированию и проявлению широкой эрудиции в разных областях знаний, постоянно повышать свой образовательный и культурный уровень;</p> <p>б) самоконтроль: использовать приемы рефлексии для оценки ситуации, выбора верного решения;</p> <p>- уметь оценивать риски и своевременно принимать решения по их снижению;</p> <p>в) эмоциональный интеллект, предполагающий сформированность: внутренней мотивации, включающей стремление к достижению цели и успеху, оптимизм, инициативность, умение действовать, исходя из своих возможностей;</p> <p>- эмпатии, включающей способность понимать эмоциональное состояние других, учитывать его при осуществлении коммуникации, способность к сочувствию и сопереживанию;</p> <p>- социальных навыков, включающих способность выстраивать отношения с другими людьми, заботиться, проявлять интерес и разрешать конфликты;</p>	
<p>ОК 04. Эффективно взаимодействовать и работать в коллективе и команде</p>	<p>- готовность к саморазвитию, самостоятельности и самоопределению;</p> <p>- овладение навыками учебно-исследовательской, проектной и социальной деятельности;</p> <p>Овладение универсальными коммуникативными действиями:</p> <p>б) совместная деятельность:</p> <p>- понимать и использовать преимущества командной и</p>	<p>- овладеть умениями работать в группе с выполнением различных социальных ролей, планировать работу группы, рационально распределять деятельность в нестандартных ситуациях, адекватно оценивать вклад каждого из участников группы в решение рассматриваемой проблемы.</p>

	<p>индивидуальной работы;</p> <ul style="list-style-type: none"> - принимать цели совместной деятельности, <p>организовывать и координировать действия по ее достижению: составлять план действий, распределять роли с учетом мнений участников обсуждать результаты совместной работы;</p> <ul style="list-style-type: none"> - координировать и выполнять работу в условиях реального, виртуального и комбинированного взаимодействия; - осуществлять позитивное стратегическое поведение в различных ситуациях, проявлять творчество и воображение, быть инициативным <p>Овладение универсальными регулятивными действиями:</p> <p>г) принятие себя и других людей:</p> <ul style="list-style-type: none"> - принимать мотивы и аргументы других людей при анализе результатов деятельности; - признавать свое право и право других людей на ошибки; - развивать способность понимать мир с позиции другого человека; 	
<p>ОК 05. Осуществлять устную и письменную коммуникацию на государственном языке Российской Федерации с учетом особенностей социального и культурного контекста</p>	<p>В области эстетического воспитания:</p> <ul style="list-style-type: none"> - эстетическое отношение к миру, включая эстетику быта, научного и технического творчества, спорта, труда и общественных отношений; - способность воспринимать различные виды искусства, традиции и творчество своего и других народов, ощущать эмоциональное воздействие искусства; - убежденность в значимости для личности и общества отечественного и мирового 	<ul style="list-style-type: none"> - уметь распознавать физические явления (процессы) и объяснять их на основе изученных законов: равномерное и равноускоренное прямолинейное движение, свободное падение тел, движение по окружности, инерция, взаимодействие тел, колебательное движение, резонанс, волновое движение; диффузия, броуновское движение, строение жидкостей и твердых тел, изменение объема тел при

	<p>искусства, этнических культурных традиций и народного творчества;</p> <ul style="list-style-type: none"> - готовность к самовыражению в разных видах искусства, стремление проявлять качества творческой личности; <p>Овладение универсальными коммуникативными действиями:</p> <p>а) общение:</p> <ul style="list-style-type: none"> - осуществлять коммуникации во всех сферах жизни; - распознавать невербальные средства общения, понимать значение социальных знаков, распознавать предпосылки конфликтных ситуаций и смягчать конфликты; - развернуто и логично излагать свою точку зрения с использованием языковых средств; 	<p>нагревании (охлаждении), тепловое равновесие, испарение, конденсация, плавление, кристаллизация, кипение, влажность воздуха, связь средней кинетической энергии теплового движения молекул с абсолютной температурой, повышение давления газа при его нагревании в закрытом сосуде, связь между параметрами состояния газа в изопроцессах; электризация тел, взаимодействие зарядов, нагревание проводника с током, взаимодействие магнитов, электромагнитная индукция, действие магнитного поля на проводник с током и движущийся заряд, электромагнитные колебания и волны, прямолинейное распространение света, отражение, преломление, интерференция, дифракция и поляризация света, дисперсия света; фотоэлектрический эффект, световое давление, возникновение линейчатого спектра атома водорода, естественная и искусственная радиоактивность</p>
<p>ОК 07. Содействовать сохранению окружающей среды, ресурсосбережению, применять знания об изменении климата, принципы бережливого производства, эффективно действовать в чрезвычайных ситуациях</p>	<p>В области экологического воспитания:</p> <ul style="list-style-type: none"> - сформированность экологической культуры, понимание влияния социально-экономических процессов на состояние природной и социальной среды, осознание глобального характера экологических проблем; - планирование и осуществление действий в окружающей среде на основе знания целей устойчивого развития человечества; активное неприятие действий, приносящих вред 	<ul style="list-style-type: none"> - сформировать умения применять полученные знания для объяснения условий протекания физических явлений в природе и для принятия практических решений в повседневной жизни для обеспечения безопасности при обращении с бытовыми приборами и техническими устройствами, сохранения здоровья и соблюдения норм экологического поведения в окружающей среде; понимание необходимости применения достижений физики и технологий для

	<p>окружающей среде;</p> <ul style="list-style-type: none"> - умение прогнозировать неблагоприятные экологические последствия предпринимаемых действий, предотвращать их; - расширение опыта деятельности экологической направленности; - овладение навыками учебно-исследовательской, проектной и социальной деятельности; 	<p>рационального природопользования.</p>
--	--	--

В рамках программы учебной дисциплины обучающимися формируются **личностные результаты:**

ЛР 2. Проявляющий активную гражданскую позицию, демонстрирующий приверженность принципам честности, порядочности, открытости, экономически активный и участвующий в студенческом и территориальном самоуправлении, в том числе на условиях добровольчества, продуктивно взаимодействующий и участвующий в деятельности общественных организаций.

ЛР 4. Проявляющий и демонстрирующий уважение к людям труда, осознающий ценность собственного труда. Стремящийся к формированию в сетевой среде лично и профессионального конструктивного «цифрового следа».

ЛР 10. Заботящийся о защите окружающей среды, собственной и чужой безопасности, в том числе цифровой.

В результате освоения учебной дисциплины обучающийся должен **уметь:**

- проводить наблюдения, планировать и выполнять эксперименты;
- выдвигать гипотезы и строить модели;
- применять полученные знания по физике для объяснения разнообразных физических явлений и свойств веществ;
- практически использовать физические знания;
- оценивать достоверность естественно-научной информации;
- использовать приобретенные знания и умения для решения практических задач повседневной жизни, обеспечения безопасности собственной жизни, рационального природопользования и охраны окружающей среды.
- описывать и объяснять физические явления и свойства тел: свойства газов, жидкостей и твердых тел; электромагнитную индукцию, распространение электромагнитных волн; волновые свойства света; излучение и поглощение света атомом; фотоэффект;
- отличать гипотезы от научных теорий;
- делать выводы на основе экспериментальных данных;
- приводить примеры, показывающие, что: наблюдения и эксперимент являются основой для выдвижения гипотез и теорий, позволяют проверить истинность теоретических выводов; физическая теория дает возможность объяснять известные явления природы и научные факты, предсказывать еще неизвестные явления;
- приводить примеры практического использования физических знаний: законов механики, термодинамики и электродинамики в энергетике; различных видов электромагнитных излучений для развития радио и телекоммуникаций, квантовой физики в создании ядерной энергетики, лазеров;

- воспринимать и на основе полученных знаний самостоятельно оценивать информацию, содержащуюся в сообщениях СМИ, Интернете, научно-популярных статьях.

- применять полученные знания для решения физических задач;
- определять характер физического процесса по графику, таблице, формуле;
- измерять ряд физических величин, представляя результаты измерений с учетом их погрешностей.

В результате освоения учебной дисциплины обучающийся должен **знать:**

- смысл понятий: физическое явление, гипотеза, закон, теория, вещество, взаимодействие, электромагнитное поле, волна, фотон, атом, атомное ядро, ионизирующие излучения;

- смысл физических величин: скорость, ускорение, масса, сила, импульс, работа, механическая энергия, внутренняя энергия, абсолютная температура, средняя кинетическая энергия частиц вещества, количество теплоты, элементарный электрический заряд;

- смысл физических законов классической механики, всемирного тяготения, сохранения энергии, импульса и электрического заряда, термодинамики, электромагнитной индукции, фотоэффекта;

- вклад российских и зарубежных ученых, оказавших наибольшее влияние на развитие физики.

2. СТРУКТУРА И СОДЕРЖАНИЕ УЧЕБНОЙ ДИСЦИПЛИНЫ

2.1 Объем учебной дисциплины и виды учебной работы

Форма обучения: очная

Вид учебной работы	Объем часов
Объем образовательной программы учебной дисциплины	84
в т.ч. в форме практической подготовки	-
в том числе:	
лекционные занятия	38
практические занятия	40
курсовая работа (проект)	
Самостоятельная работа	6
Промежуточная аттестация в форме дифференцированного зачета	

2.2. Тематический план и содержание учебной дисциплины

Наименование разделов и тем	Содержание учебного материала и формы организации деятельности обучающихся	Объем, акад. ч / в том числе в форме практической подготовки, акад. ч	Коды компетенций и личностных результатов, формированию которых способствует элемент программы
1	2	3	4
Введение. Физика и методы научного познания	Физика — фундаментальная наука о природе. Естественно-научный метод познания, его возможности и границы применимости. Эксперимент и теория в процессе познания природы. Моделирование физических явлений и процессов. Роль эксперимента и теории в процессе познания природы. Физическая величина. Физические законы. Границы применимости физических законов и теорий. Принцип соответствия. Понятие о физической картине мира. Погрешности измерений физических величин.	1	ОК 03, 05 ЛР 2, 4, 10
Раздел 1. Механика			
Тема 1.1 Основы кинематики	Содержание учебного материала	2	ОК 01, 02, 04, 05, 07 ЛР 2, 4, 10
	Механическое движение и его виды. Материальная точка. Скалярные и векторные физические величины. Относительность механического движения. Система отсчета. Принцип относительности Галилея. Траектория. Путь. Перемещение. Равномерное прямолинейное движение. Скорость. Уравнение движения. Мгновенная и средняя скорости. Ускорение. Прямолинейное движение с постоянным ускорением. Движение с постоянным ускорением свободного падения. Равномерное движение точки по окружности, угловая скорость. Центробежное ускорение. Кинематика абсолютно твердого тела.		
	Практическое занятие Решение задач	2	
Тема 1.2 Основы динамики	Содержание учебного материала	2	ОК 01, 02, 04, 05, 07 ЛР 2, 4, 10
	Основная задача динамики. Сила. Масса. Законы механики		

	Ньютона. Силы в природе. Сила тяжести и сила всемирного тяготения. Закон всемирного тяготения. Первая космическая скорость. Движение планет и малых тел Солнечной системы. Вес. Невесомость. Силы упругости. Силы трения.		
	Практическое занятие	2	
	Решение задач		
Тема 1.3 Законы сохранения в механике	Содержание учебного материала	2	ОК 01, 02, 04, 05, 07 ЛР 2, 4, 10
	Импульс тела. Импульс силы. Закон сохранения импульса. Реактивное движение. Механическая работа и мощность. Кинетическая энергия. Потенциальная энергия. Закон сохранения механической энергии. Работа силы тяжести и силы упругости. Применение законов сохранения. Использование законов механики для объяснения движения 16 небесных тел и для развития космических исследований, границы применимости классической механики.		
	Практическое занятие	2	
	Решение задач		
Раздел 2. Молекулярная физика и термодинамика			
Тема 2.1 Основы молекулярно-кинетической теории	Содержание учебного материала	2	ОК 01, 02, 03, 04, 05, 07 ЛР 2, 4, 10
	Основные положения молекулярно-кинетической теории. Размеры и масса молекул и атомов. Броуновское движение. Строение газообразных, жидких и твердых тел. Идеальный газ. Давление газа. Основное уравнение молекулярно-кинетической теории газов. Температура и ее измерение. Абсолютный нуль температуры. Термодинамическая шкала температуры. Температура звезд. Скорости движения молекул и их измерение. Уравнение состояния идеального газа. Изопроцессы и их графики. Газовые законы.		
	Практическое занятие	2	
	Решение задач		
Тема 2.2 Основы термодинамики	Содержание учебного материала	1	ОК 01, 02, 03, 04, 05, 07 ЛР 2, 4, 10
	Внутренняя энергия. Работа и теплопередача. Количество теплоты. Уравнение теплового баланса. Первое начало термодинамики. Адиабатный процесс. Второе начало		

	термодинамики. Тепловые двигатели. КПД теплового двигателя. Охрана природы.		
	Практическое занятие	2	
	Решение задач		
Тема 2.3 Агрегатные состояния вещества и фазовые переходы	Содержание учебного материала	2	ОК 01, 02, 03, 04, 05, 07 ЛР 2, 4, 10
	Испарение и конденсация. Насыщенный пар и его свойства. Относительная влажность воздуха. Приборы для определения влажности воздуха. Кипение. Зависимость температуры кипения от давления. Характеристика жидкого состояния вещества. Ближний порядок. Поверхностное натяжение. Смачивание. Капиллярные явления. Характеристика твердого состояния вещества. Кристаллические и аморфные тела.		
	Практическое занятие	2	
	Решение задач		
Раздел 3. Электродинамика			
Тема 3.1 Электрическое поле	Содержание учебного материала	2	ОК 01, 02, 03, 04, 05, 07 ЛР 2, 4, 10
	Электрические заряды. Элементарный электрический заряд. Закон сохранения заряда. Закон Кулона. Электрическое поле. Напряженность электрического поля. Принцип суперпозиции полей. Проводники в электрическом поле. Диэлектрики в электрическом поле. Поляризация диэлектриков. Потенциал. Разность потенциалов. Эквипотенциальные поверхности. Связь между напряженностью и разностью потенциалов электрического поля. Емкость. Конденсаторы. Энергия заряженного конденсатора. Применение конденсаторов.		
	Практическое занятие	2	
	Решение задач		
Тема 3.2 Законы постоянного тока	Содержание учебного материала	2	ОК 01, 02, 03, 04, 05, 07 ЛР 2, 4, 10
	Условия, необходимые для возникновения и поддержания электрического тока. Сила тока. Электрическое сопротивление. Закон Ома для участка цепи. Параллельное и последовательное соединение проводников. Работа и мощность постоянного тока. Тепловое действие тока Закон		

	Джоуля—Ленца. Электродвижущая сила источника тока. Закон Ома для полной цепи.		
	Практическое занятие	2	
	Решение задач		
Тема 3.3 Электрический ток в различных средах	Содержание учебного материала	2	ОК 01, 02, 03, 04, 05, 07 ЛР 2, 4, 10
	Электрический ток в металлах, в электролитах, газах, в вакууме. Электролиз. Закон 4 электролиза Фарадея. Виды газовых разрядов. Термоэлектронная эмиссия. Плазма. Электрический ток в полупроводниках. Собственная и примесная проводимости. P-n переход. Полупроводниковые приборы. Применение полупроводников.		
	Практическое занятие	2	
	Решение задач		
Тема 3.4 Магнитное поле	Содержание учебного материала	2	ОК 01, 02, 03, 04, 05, 07 ЛР 2, 4, 10
	Вектор индукции магнитного поля. Взаимодействие токов. Сила Ампера. Применение силы Ампера. Магнитный поток. Действие магнитного поля на движущийся заряд. Сила Лоренца. Применение силы Лоренца. Магнитные свойства вещества. Солнечная активность и её влияние на Землю. Магнитные бури.		
	Практическое занятие	2	
	Решение задач		
Тема 3.5 Электромагнитная индукция	Содержание учебного материала	2	ОК 01, 02, 03, 04, 05, 07 ЛР 2, 4, 10
	Явление электромагнитной индукции. Закон электромагнитной индукции. Правило Ленца. Вихревое электрическое поле. ЭДС индукции в движущихся проводниках. Явление самоиндукции. Индуктивность. Энергия магнитного поля тока. Электромагнитное поле.		
	Практическое занятие	2	
	Решение задач		
Раздел 4. Колебания и волны			
Тема 4.1 Механические	Содержание учебного материала	2	ОК 01, 02, 04, 05, 07 ЛР 2, 4, 10
	Гармонические колебания. Свободные механические		

колебания и волны	колебания. Превращение энергии при колебательном движении. Математический маятник. Пружинный маятник. Вынужденные механические колебания. Резонанс. Поперечные и продольные волны. Характеристики волны. Звуковые волны. Ультразвук и его применение.		
	Практическое занятие Решение задач	2	
Тема 4.2 Электромагнитные колебания и волны	Содержание учебного материала	2	ОК 01, 02, 04, 05, 07 ЛР 2, 4, 10
	Свободные электромагнитные колебания. Превращение энергии в колебательном контуре. Период свободных электрических колебаний. Формула Томсона. Затухающие электромагнитные колебания. Вынужденные электрические колебания. Переменный ток. Резонанс в электрической цепи. Генератор переменного тока. Трансформаторы. Получение, передача и распределение электроэнергии. Электромагнитные волны. Свойства электромагнитных волн. Открытый колебательный контур. Опыты Г.Герца. Изобретение радио А.С. Поповым. Понятие о радиосвязи. Принцип радиосвязи. Применение электромагнитных волн.		
	Практическое занятие Решение задач	2	
Раздел 5. Оптика			
Тема 5.1 Природа света	Содержание учебного материала	2	ОК 01, 02, 04, 05 ЛР 2, 4, 10
	Точечный источник света. Скорость распространения света. Законы отражения и преломления света. Принцип Гюйгенса. Солнечные и лунные затмения. Полное отражение. Линзы. Построение изображения в линзах. Формула тонкой линзы. Увеличение линзы. Глаз как оптическая система. Оптические приборы. Телескопы		
	Практическое занятие Решение задач	2	
Тема 5.2 Волновые свойства света	Содержание учебного материала	2	ОК 01, 02, 04, 05 ЛР 2, 4, 10
	Интерференция света. Когерентность световых лучей. Интерференция в тонких пленках. Кольца Ньютона.		

	Использование интерференции в науке и технике. Дифракция света. Дифракция на щели в параллельных лучах. Дифракционная решетка. Поляризация поперечных волн. Поляризация света. Поляроиды. Дисперсия света. Виды излучений. Виды спектров. Спектры испускания. Спектры поглощения. Спектральный анализ. Спектральные классы звезд. Ультрафиолетовое излучение. Инфракрасное излучение. Рентгеновские лучи. Их природа и свойства. Шкала электромагнитных излучений.		
	Практическое занятие	2	
	Решение задач		
Тема 5.3 Специальная теория относительности	Содержание учебного материала	2	ОК 01, 02, 04, 05 ЛР 2, 4, 10
	Движение со скоростью света. Постулаты теории относительности и следствия из них. Инвариантность модуля скорости света в вакууме. Энергия покоя. Связь массы и энергии свободной частицы. Элементы релятивистской динамики		
	Практическое занятие	2	
	Решение задач		
Раздел 6. Квантовая физика			
Тема 6.1 Квантовая оптика	Содержание учебного материала	2	ОК 01, 02, 04, 05, 07 ЛР 2, 4, 10
	Квантовая гипотеза Планка. Тепловое излучение. Корпускулярно-волновой дуализм. Фотоны. Гипотеза де Бройля о волновых свойствах частиц. Давление света. Химическое действие света. Опыты П.Н. Лебедева и Н.И. Вавилова. Фотоэффект. Уравнение Эйнштейна для фотоэффекта. Применение фотоэффекта		
	Практическое занятие	2	
	Решение задач		
Тема 6.2 Физика атома и атомного ядра	Содержание учебного материала	2	ОК 01, 02, 04, 05, 07 ЛР 2, 4, 10
	Развитие взглядов на строение вещества. Модели строения атомного ядра. Ядерная модель атома. Опыты Э.Резерфорда. Модель атома водорода по Н.Бору. Квантовые постулаты Бора. Лазеры. Радиоактивность. Закон радиоактивного		

	распада. Радиоактивные превращения. Способы наблюдения и регистрации заряженных частиц. Строение атомного ядра. Дефект массы, энергия связи и устойчивость атомных ядер. Ядерные реакции. Ядерная энергетика. Энергетический выход ядерных реакций. Искусственная радиоактивность. Деление тяжелых ядер. Цепная ядерная реакция. Управляемая цепная реакция. Ядерный реактор. Термоядерный синтез. Энергия звезд. Получение радиоактивных изотопов и их применение. Биологическое действие радиоактивных излучений. Элементарные частицы.		
	Практическое занятие	2	
	Решение задач		
Раздел 7. Строение Вселенной			
Тема 7.1 Строение Солнечной системы	Содержание учебного материала	1	ОК 01, 02, 03, 04, 05, 07 ЛР 2, 4, 10
	Солнечная система: планеты и малые тела, система Земля—Луна.		
	Практическое занятие	2	
	Решение задач		
Тема 7.2 Эволюция Вселенной	Содержание учебного материала	1	ОК 01, 02, 03, 04, 05, 07 ЛР 2, 4, 10
	Строение и эволюция Солнца и звёзд. Классификация звёзд. Звёзды и источники их энергии. Галактика. Современные представления о строении и эволюции Вселенной.		
Самостоятельная работа		6	
Промежуточная аттестация	Дифференцированный зачет	2	
Всего:		84	

3. УСЛОВИЯ РЕАЛИЗАЦИИ УЧЕБНОЙ ДИСЦИПЛИНЫ

3.1 Требования к минимальному материально-техническому обеспечению:

Наименование специально оборудованного учебного кабинета	Оснащенность специально оборудованного учебного кабинета
Кабинет физики, каб.207	Специализированная учебная мебель: рабочее место преподавателя; ученические столы – одноместные 2 шт.; ученические столы – двухместные 21 шт.; доска меловая; тумба для оборудования 1 шт.; стулья 37 шт.; Технические средства обучения: мультимедийный проектор переносной; экран проекционный; переносной ноутбук; Лабораторное оборудование по физике. Печатные наглядные пособия и лабораторные стенды.

3.2. Информационное обеспечение реализации программы

3.2.1. Основная литература

Мякишев, Г.Я., Физика. 10 класс. Учебник. Базовый и углубленный уровни. ФГОС / Г.Я. Мякишев, Б.Б. Буховцев, Н.Н. Сотский / под ред. Парфентьевой Н.А. – Москва: Просвещение, 2023. – 432 с.

Мякишев, Г.Я., Физика. 11 класс. Учебник. Базовый и углубленный уровни. ФГОС / Г.Я. Мякишев, Б.Б. Буховцев, В.М. Чаругин / под ред. Парфентьевой Н.А. – Москва: Просвещение, 2022. – 436 с.

3.2.2. Дополнительная литература

Логвиненко, О. В., Физика + eПриложение : учебник / О. В. Логвиненко. — Москва : КноРус, 2024. — 437 с. — ISBN 978-5-406-12104-7. — URL: <https://book.ru/book/950602>. — Текст : электронный.

Мокрова, И. И., Физика. Лабораторный практикум : учебное пособие / И. И. Мокрова. — Москва : КноРус, 2024. — 176 с. — ISBN 978-5-406-12452-9. — URL: <https://book.ru/book/951557>. — Текст : электронный.

Трофимова, Т. И., Краткий курс физики с примерами решения задач. : учебное пособие / Т. И. Трофимова. — Москва : КноРус, 2023. — 279 с. — ISBN 978-5-406-11193-2. — URL: <https://book.ru/book/949829>. — Текст : электронный.

Логвиненко, О. В., Физика. Практикум : учебное пособие / О. В. Логвиненко. — Москва : КноРус, 2023. — 358 с. — ISBN 978-5-406-11977-8. — URL: <https://book.ru/book/950216>. — Текст : электронный.

4. КОНТРОЛЬ И ОЦЕНКА РЕЗУЛЬТАТОВ ОСВОЕНИЯ УЧЕБНОЙ ДИСЦИПЛИНЫ

Контроль и оценка результатов освоения общеобразовательной дисциплины раскрываются через дисциплинарные результаты, направленные на формирование общих и профессиональных компетенций по разделам и темам содержания учебного материала

Общая/профессиональная компетенция	Раздел/Тема	Тип оценочных мероприятий
ОК 01. Выбирать способы решения задач профессиональной деятельности применительно к различным контекстам	Раздел 1. Темы 1.1., 1.2, 1.3 Раздел 2. Темы 2.1., 2.2., 2.3. Раздел 3. Темы 3.1. - 3.5. Раздел 4. Темы 4.1., 4.2. Раздел 5. Темы 5.1., 5.2., 5.3. Раздел 6. Темы 6.1., 6.2. Раздел 7. Темы 7.1., 7.2.	Тестовые задания Практические задания Дифференцированный зачет
ОК 02. Использовать современные средства поиска, анализа и интерпретации информации и информационные технологии для выполнения задач профессиональной деятельности	Раздел 1. Темы 1.1., 1.2, 1.3 Раздел 2. Темы 2.1., 2.2., 2.3. Раздел 3. Темы 3.1. - 3.5. Раздел 4. Темы 4.1., 4.2. Раздел 5. Темы 5.1., 5.2., 5.3. Раздел 6. Темы 6.1., 6.2. Раздел 7. Темы 7.1., 7.2.	
ОК 03. Планировать и реализовывать собственное профессиональное и личностное развитие, предпринимательскую деятельность в профессиональной сфере, использовать знания по финансовой грамотности в различных жизненных ситуациях	Раздел 2. Темы 2.1., 2.2., 2.3. Раздел 3. Темы 3.1. - 3.5. Раздел 7. Темы 7.1., 7.2.	
ОК 04. Эффективно взаимодействовать и работать в коллективе и команде	Раздел 1. Темы 1.1., 1.2, 1.3 Раздел 2. Темы 2.1., 2.2., 2.3. Раздел 3. Темы 3.1. - 3.5. Раздел 4. Темы 4.1., 4.2. Раздел 5. Темы 5.1., 5.2., 5.3. Раздел 6. Темы 6.1., 6.2. Раздел 7. Темы 7.1., 7.2.	
ОК 05 Осуществлять устную и письменную коммуникацию на государственном языке Российской Федерации с учетом особенностей	Раздел 1. Темы 1.1., 1.2, 1.3 Раздел 2. Темы 2.1., 2.2., 2.3. Раздел 3. Темы 3.1. - 3.5. Раздел 4. Темы 4.1., 4.2. Раздел 5. Темы 5.1., 5.2., 5.3. Раздел 6. Темы 6.1., 6.2. Раздел 7. Темы 7.1., 7.2.	
ОК 07. Содействовать сохранению окружающей среды, ресурсосбережению, применять знания об изменении климата, принципы бережливого производства,	Раздел 1. Темы 1.1., 1.2, 1.3 Раздел 2. Темы 2.1., 2.2., 2.3. Раздел 3. Темы 3.1. - 3.5. Раздел 4. Темы 4.1., 4.2. Раздел 6. Темы 6.1., 6.2. Раздел 7. Темы 7.1., 7.2.	

эффективно действовать в чрезвычайных ситуациях		
--	--	--

ФОНД ОЦЕНОЧНЫХ СРЕДСТВ

по дисциплине

Физика

Специальность

31.02.01 Лечебное дело

Йошкар-Ола
2024 г.

1. Паспорт фонда оценочных средств

1.1 Область применения

Фонд оценочных средств (далее – ФОС) для текущего контроля успеваемости и промежуточной аттестации предназначен для оценивания знаний, умений, уровня сформированности компетенций обучающихся по специальности 31.02.01 Лечебное дело, по дисциплине «**Физика**».

ФОС составлен на основе *ФГОС СОО/ ФГОС СПО*, рабочей программы дисциплины «**Физика**».

Промежуточная аттестация по дисциплине предусмотрена в форме дифференцированного зачета.

1.2 Планируемые результаты освоения учебной дисциплины.

ФОС позволяет оценить результаты освоения учебной дисциплины в соответствии с требованиями рабочей программы.

Код ПК,ОК	Общие результаты ³	Дисциплинарные результаты ⁴
ОК 01. Выбирать способы решения задач профессиональной деятельности применительно к различным контекстам	В части трудового воспитания: - готовность к труду, осознание ценности мастерства, трудолюбие; - готовность к активной деятельности технологической и социальной направленности, способность инициировать, планировать и самостоятельно выполнять такую деятельность; - интерес к различным сферам профессиональной деятельности. Овладение универсальными учебными познавательными действиями: а) базовые логические действия: - самостоятельно формулировать и актуализировать проблему, рассматривать ее всесторонне; - устанавливать существенный признак или основания для сравнения, классификации и обобщения;	- сформировать представления о роли и месте физики и астрономии в современной научной картине мира, о системообразующей роли физики в развитии естественных наук, техники и современных технологий, о вкладе российских и зарубежных ученых-физиков в развитие науки; понимание физической сущности наблюдаемых явлений микромира, макромира и мегамира; понимание роли астрономии в практической деятельности человека и дальнейшем научно-техническом развитии, роли физики в формировании кругозора и функциональной грамотности человека для решения практических задач; - сформировать умения решать расчетные задачи с явно заданной физической моделью, используя физические законы и принципы; на основе анализа условия задачи выбирать

³ Указываются личностные и метапредметные результаты из ФГОС СОО (в последней редакции от 12.08.2022) в отглагольной форме, формируемые общеобразовательной дисциплиной

⁴ Дисциплинарные (предметные) результаты указываются в соответствии с их полным перечнем во ФГОС СОО (в последней редакции от 12.08.2022) для базового уровня обучения

	<ul style="list-style-type: none"> - определять цели деятельности, задавать параметры и критерии их достижения; - выявлять закономерности и противоречия в рассматриваемых явлениях; - вносить коррективы в деятельность, оценивать соответствие результатов целям, оценивать риски последствий деятельности; - развивать креативное мышление при решении жизненных проблем <p>б) базовые исследовательские действия:</p> <ul style="list-style-type: none"> - владеть навыками учебно-исследовательской и проектной деятельности, навыками разрешения проблем; - выявлять причинно-следственные связи и актуализировать задачу, выдвигать гипотезу ее решения, находить аргументы для доказательства своих утверждений, задавать параметры и критерии решения; - анализировать полученные в ходе решения задачи результаты, критически оценивать их достоверность, прогнозировать изменение в новых условиях; - уметь переносить знания в познавательную и практическую области жизнедеятельности; - уметь интегрировать знания из разных предметных областей; - выдвигать новые идеи, предлагать оригинальные подходы и решения; - способность их использования в познавательной и социальной практике. 	<p>физическую модель, выделять физические величины и формулы, необходимые для ее решения, проводить расчеты и оценивать реальность полученного значения физической величины; решать качественные задачи, выстраивая логически непротиворечивую цепочку рассуждений с опорой на изученные законы, закономерности и физические явления;</p> <ul style="list-style-type: none"> - владеть основополагающими физическими понятиями и величинами, характеризующими физические процессы (связанными с механическим движением, взаимодействием тел, механическими колебаниями и волнами; атомно-молекулярным строением вещества, тепловыми процессами; электрическим и магнитным полями, электрическим током, электромагнитными колебаниями и волнами; оптическими явлениями; квантовыми явлениями, строением атома и атомного ядра, радиоактивностью); владение основополагающими астрономическими понятиями, позволяющими характеризовать процессы, происходящие на звездах, в звездных системах, в межгалактической среде; движение небесных тел, эволюцию звезд и Вселенной; - владеть закономерностями, законами и теориями (закон всемирного тяготения, I, II и III законы Ньютона, закон сохранения механической энергии, закон сохранения импульса, принцип суперпозиции сил, принцип равноправности
--	--	--

		<p>инерциальных систем отсчета; молекулярно-кинетическую теорию строения вещества, газовые законы, первый закон термодинамики; закон сохранения электрического заряда, закон Кулона, закон Ома для участка цепи, закон Ома для полной электрической цепи, закон Джоуля - Ленца, закон электромагнитной индукции, закон сохранения энергии, закон прямолинейного распространения света, закон отражения света, закон преломления света; закон сохранения энергии, закон сохранения импульса, закон сохранения электрического заряда, закон сохранения массового числа, постулаты Бора, закон радиоактивного распада); уверенное использование законов и закономерностей при анализе физических явлений и процессов.</p>
<p>ОК 02. Использовать современные средства поиска, анализа и интерпретации информации, и информационные технологии для выполнения задач профессиональной деятельности</p>	<p>В области ценности научного познания: - сформированность мировоззрения, соответствующего современному уровню развития науки и общественной практики, основанного на диалоге культур, способствующего осознанию своего места в поликультурном мире; - совершенствование языковой и читательской культуры как средства взаимодействия между людьми и познания мира; - осознание ценности научной деятельности, готовность осуществлять проектную и исследовательскую деятельность индивидуально и в группе.</p>	<p>-уметь учитывать границы применения изученных физических моделей: материальная точка, инерциальная система отсчета, идеальный газ; модели строения газов, жидкостей и твердых тел, точечный электрический заряд, ядерная модель атома, нуклонная модель атомного ядра при решении физических задач.</p>

	<p>Овладение универсальными учебными познавательными действиями:</p> <p>в) работа с информацией:</p> <ul style="list-style-type: none"> - владеть навыками получения информации из источников разных типов, самостоятельно осуществлять поиск, анализ, систематизацию и интерпретацию информации различных видов и форм представления; - создавать тексты в различных форматах с учетом назначения информации и целевой аудитории, выбирая оптимальную форму представления и визуализации; - оценивать достоверность, легитимность информации, ее соответствие правовым и морально-этическим нормам; - использовать средства информационных и коммуникационных технологий в решении когнитивных, коммуникативных и организационных задач с соблюдением требований эргономики, техники безопасности, гигиены, ресурсосбережения, правовых и этических норм, норм информационной безопасности; - владеть навыками распознавания и защиты информации, информационной безопасности личности. 	
<p>ОК 03. Планировать и реализовывать собственное профессиональное и личностное развитие, предпринимательскую деятельность в профессиональной сфере, использовать</p>	<p>В области духовно-нравственного воспитания:</p> <ul style="list-style-type: none"> - сформированность нравственного сознания, этического поведения; - способность оценивать ситуацию и принимать осознанные решения, ориентируясь на морально- 	<ul style="list-style-type: none"> - владеть основными методами научного познания, используемыми в физике: проводить прямые и косвенные измерения физических величин, выбирая оптимальный способ измерения и используя известные методы оценки

<p>знания по финансовой грамотности в различных жизненных ситуациях</p>	<p>нравственные нормы и ценности; - осознание личного вклада в построение устойчивого будущего; - ответственное отношение к своим родителям и (или) другим членам семьи, созданию семьи на основе осознанного принятия ценностей семейной жизни в соответствии с традициями народов России; Овладение универсальными регулятивными действиями: а) самоорганизация: - самостоятельно осуществлять познавательную деятельность, выявлять проблемы, ставить и формулировать собственные задачи в образовательной деятельности и жизненных ситуациях; - самостоятельно составлять план решения проблемы с учетом имеющихся ресурсов, собственных возможностей и предпочтений; - давать оценку новым ситуациям; способствовать формированию и проявлению широкой эрудиции в разных областях знаний, постоянно повышать свой образовательный и культурный уровень; б) самоконтроль: использовать приемы рефлексии для оценки ситуации, выбора верного решения; - уметь оценивать риски и своевременно принимать решения по их снижению; в) эмоциональный интеллект, предполагающий сформированность: внутренней мотивации, включающей стремление к достижению цели и успеху,</p>	<p>погрешностей измерений, проводить исследование зависимостей физических величин с использованием прямых измерений, объяснять полученные результаты, используя физические теории, законы и понятия, и делать выводы; соблюдать правила безопасного труда при проведении исследований в рамках учебного эксперимента и учебно-исследовательской деятельности с использованием цифровых измерительных устройств и лабораторного оборудования; сформированность представлений о методах получения научных астрономических знаний - овладеть (сформировать представления) правилами записи физических формул рельефно-точечной системы обозначений Л. Брайля (для слепых и слабовидящих обучающихся).</p>
---	---	--

	<p>ОПТИМИЗМ, инициативность, умение действовать, исходя из своих возможностей;</p> <ul style="list-style-type: none"> - эмпатии, включающей способность понимать эмоциональное состояние других, учитывать его при осуществлении коммуникации, способность к сочувствию и сопереживанию; - социальных навыков, включающих способность выстраивать отношения с другими людьми, заботиться, проявлять интерес и разрешать конфликты; 	
<p>ОК 04. Эффективно взаимодействовать и работать в коллективе и команде</p>	<ul style="list-style-type: none"> - готовность к саморазвитию, самостоятельности и самоопределению; - овладение навыками учебно-исследовательской, проектной и социальной деятельности; Овладение универсальными коммуникативными действиями: б) совместная деятельность: <ul style="list-style-type: none"> - понимать и использовать преимущества командной и индивидуальной работы; - принимать цели совместной деятельности, организовывать и координировать действия по ее достижению: составлять план действий, распределять роли с учетом мнений участников обсуждать результаты совместной работы; - координировать и выполнять работу в условиях реального, виртуального и комбинированного взаимодействия; - осуществлять позитивное стратегическое поведение в различных ситуациях, проявлять творчество и воображение, быть инициативным 	<p>- овладеть умениями работать в группе с выполнением различных социальных ролей, планировать работу группы, рационально распределять деятельность в нестандартных ситуациях, адекватно оценивать вклад каждого из участников группы в решение рассматриваемой проблемы.</p>

	<p>Овладение универсальными регулятивными действиями:</p> <p>г) принятие себя и других людей:</p> <ul style="list-style-type: none"> - принимать мотивы и аргументы других людей при анализе результатов деятельности; - признавать свое право и право других людей на ошибки; - развивать способность понимать мир с позиции другого человека; 	
<p>ОК 05. Осуществлять устную и письменную коммуникацию на государственном языке Российской Федерации с учетом особенностей социального и культурного контекста</p>	<p>В области эстетического воспитания:</p> <ul style="list-style-type: none"> - эстетическое отношение к миру, включая эстетику быта, научного и технического творчества, спорта, труда и общественных отношений; - способность воспринимать различные виды искусства, традиции и творчество своего и других народов, ощущать эмоциональное воздействие искусства; - убежденность в значимости для личности и общества отечественного и мирового искусства, этнических культурных традиций и народного творчества; - готовность к самовыражению в разных видах искусства, стремление проявлять качества творческой личности; <p>Овладение универсальными коммуникативными действиями:</p> <p>а) общение:</p> <ul style="list-style-type: none"> - осуществлять коммуникации во всех сферах жизни; - распознавать невербальные средства общения, понимать значение социальных знаков, распознавать предпосылки конфликтных ситуаций и смягчать конфликты; - развернуто и логично 	<ul style="list-style-type: none"> - уметь распознавать физические явления (процессы) и объяснять их на основе изученных законов: равномерное и равноускоренное прямолинейное движение, свободное падение тел, движение по окружности, инерция, взаимодействие тел, колебательное движение, резонанс, волновое движение; диффузия, броуновское движение, строение жидкостей и твердых тел, изменение объема тел при нагревании (охлаждении), тепловое равновесие, испарение, конденсация, плавление, кристаллизация, кипение, влажность воздуха, связь средней кинетической энергии теплового движения молекул с абсолютной температурой, повышение давления газа при его нагревании в закрытом сосуде, связь между параметрами состояния газа в изопроцессах; электризация тел, взаимодействие зарядов, нагревание проводника с током, взаимодействие магнитов, электромагнитная индукция, действие магнитного поля на проводник с током и движущийся заряд,

	излагать свою точку зрения с использованием языковых средств;	электромагнитные колебания и волны, прямолинейное распространение света, отражение, преломление, интерференция, дифракция и поляризация света, дисперсия света; фотоэлектрический эффект, световое давление, возникновение линейчатого спектра атома водорода, естественная и искусственная радиоактивность
ОК 07. Содействовать сохранению окружающей среды, ресурсосбережению, применять знания об изменении климата, принципы бережливого производства, эффективно действовать в чрезвычайных ситуациях	В области экологического воспитания: - сформированность экологической культуры, понимание влияния социально-экономических процессов на состояние природной и социальной среды, осознание глобального характера экологических проблем; - планирование и осуществление действий в окружающей среде на основе знания целей устойчивого развития человечества; активное неприятие действий, приносящих вред окружающей среде; - умение прогнозировать неблагоприятные экологические последствия предпринимаемых действий, предотвращать их; - расширение опыта деятельности экологической направленности; - овладение навыками учебно-исследовательской, проектной и социальной деятельности;	- сформировать умения применять полученные знания для объяснения условий протекания физических явлений в природе и для принятия практических решений в повседневной жизни для обеспечения безопасности при обращении с бытовыми приборами и техническими устройствами, сохранения здоровья и соблюдения норм экологического поведения в окружающей среде; понимание необходимости применения достижений физики и технологий для рационального природопользования.

В рамках программы учебной дисциплины обучающимися формируются **личностные результаты:**

ЛР 2. Проявляющий активную гражданскую позицию, демонстрирующий приверженность принципам честности, порядочности, открытости, экономически активный и участвующий в студенческом и территориальном самоуправлении, в том числе на условиях добровольчества, продуктивно взаимодействующий и участвующий в деятельности общественных организаций.

ЛР 4. Проявляющий и демонстрирующий уважение к людям труда, осознающий

ценность собственного труда. Стремящийся к формированию в сетевой среде личностно и профессионального конструктивного «цифрового следа»

ЛР 10. Заботящийся о защите окружающей среды, собственной и чужой безопасности, в том числе цифровой.

В результате освоения учебной дисциплины обучающийся должен **уметь**:

- проводить наблюдения, планировать и выполнять эксперименты;
- выдвигать гипотезы и строить модели;
- применять полученные знания по физике для объяснения разнообразных физических явлений и свойств веществ;
- практически использовать физические знания;
- оценивать достоверность естественно-научной информации;
- использовать приобретенные знания и умения для решения практических задач повседневной жизни, обеспечения безопасности собственной жизни, рационального природопользования и охраны окружающей среды.
- описывать и объяснять физические явления и свойства тел: свойства газов, жидкостей и твердых тел; электромагнитную индукцию, распространение электромагнитных волн; волновые свойства света; излучение и поглощение света атомом; фотоэффект;
- отличать гипотезы от научных теорий;
- делать выводы на основе экспериментальных данных;
- приводить примеры, показывающие, что: наблюдения и эксперимент являются основой для выдвижения гипотез и теорий, позволяют проверить истинность теоретических выводов; физическая теория дает возможность объяснять известные явления природы и научные факты, предсказывать еще неизвестные явления;
- приводить примеры практического использования физических знаний: законов механики, термодинамики и электродинамики в энергетике; различных видов электромагнитных излучений для развития радио и телекоммуникаций, квантовой физики в создании ядерной энергетики, лазеров;
- воспринимать и на основе полученных знаний самостоятельно оценивать информацию, содержащуюся в сообщениях СМИ, Интернете, научно-популярных статьях.
- применять полученные знания для решения физических задач;
- определять характер физического процесса по графику, таблице, формуле;
- измерять ряд физических величин, представляя результаты измерений с учетом их погрешностей.

В результате освоения учебной дисциплины обучающийся должен **знать**:

- смысл понятий: физическое явление, гипотеза, закон, теория, вещество, взаимодействие, электромагнитное поле, волна, фотон, атом, атомное ядро, ионизирующие излучения;
- смысл физических величин: скорость, ускорение, масса, сила, импульс, работа, механическая энергия, внутренняя энергия, абсолютная температура, средняя кинетическая энергия частиц вещества, количество теплоты, элементарный электрический заряд;
- смысл физических законов классической механики, всемирного тяготения, сохранения энергии, импульса и электрического заряда, термодинамики, электромагнитной индукции, фотоэффекта;
- вклад российских и зарубежных ученых, оказавших наибольшее влияние на развитие физики.

1.3 Виды контроля и методы оценки

Контроль и оценка освоения учебной дисциплины по темам

Наименование тем	Виды и методы оценивания			
	Текущий контроль		Промежуточная аттестация	
	Методы оценки	Проверяемые компетенции, личностные результаты	Методы оценки	Проверяемые компетенции, личностные результаты
Введение. Физика и методы научного познания	Практические задания	ОК 3, 5 ЛР 2, 4, 10	Дифференцированный зачет	ОК 3, 5 ЛР 2, 4, 10
Тема 1.1 Основы кинематики	Практические задания	ОК 1,2, 4, 5, 7 ЛР 2, 4, 10	Дифференцированный зачет	ОК 1,2, 4, 5, 7 ЛР 2, 4, 10
Тема 1.2 Основы динамики	Практические задания	ОК 1,2, 4, 5, 7 ЛР 2, 4, 10	Дифференцированный зачет	ОК 1,2, 4, 5, 7 ЛР 2, 4, 10
Тема 1.3 Законы сохранения в механике	Практические задания	ОК 1,2, 4, 5, 7 ЛР 2, 4, 10	Дифференцированный зачет	ОК 1,2, 4, 5, 7 ЛР 2, 4, 10
Тема 2.1 Основы молекулярно-кинетической теории	Практические задания	ОК 1,2, 3, 4, 5, 7 ЛР 2, 4, 10	Дифференцированный зачет	ОК 1,2, 3, 4, 5, 7 ЛР 2, 4, 10
Тема 2.2 Основы термодинамики	Практические задания	ОК 1,2, 3, 4, 5, 7 ЛР 2, 4, 10	Дифференцированный зачет	ОК 1,2, 3, 4, 5, 7 ЛР 2, 4, 10
Тема 2.3 Агрегатные состояния вещества и фазовые переходы	Практические задания Тест	ОК 1,2, 3, 4, 5, 7 ЛР 2, 4, 10	Дифференцированный зачет	ОК 1,2, 3, 4, 5, 7 ЛР 2, 4, 10
Тема 3.1 Электрическое поле	Практические задания Тест	ОК 1,2, 3, 4, 5, 7 ЛР 2, 4, 10	Дифференцированный зачет	ОК 1,2, 3, 4, 5, 7 ЛР 2, 4, 10
Тема 3.2 Законы постоянного тока	Практические задания Тест	ОК 1,2, 3, 4, 5, 7 ЛР 2, 4, 10	Дифференцированный зачет	ОК 1,2, 3, 4, 5, 7 ЛР 2, 4, 10
Тема 3.3 Электрический ток в различных средах	Практические задания Тест	ОК 1,2, 3, 4, 5, 7 ЛР 2, 4, 10	Дифференцированный зачет	ОК 1,2, 3, 4, 5, 7 ЛР 2, 4, 10
Тема 3.4 Магнитное поле	Практические задания	ОК 1,2, 3, 4, 5, 7 ЛР 2, 4, 10	Дифференцированный зачет	ОК 1,2, 3, 4, 5, 7 ЛР 2, 4, 10
Тема 3.5 Электромагнитная индукция	Практические задания Тест	ОК 1,2, 3, 4, 5, 7 ЛР 2, 4, 10	Дифференцированный зачет	ОК 1,2, 3, 4, 5, 7 ЛР 2, 4, 10
Тема 4.1 Механические колебания и волны	Практические задания Тест	ОК 1,2, 4, 5, 7 ЛР 2, 4, 10	Дифференцированный зачет	ОК 1,2, 4, 5, 7 ЛР 2, 4, 10
Тема 4.2	Практические	ОК 1,2, 4, 5, 7	Дифференцированный	ОК 1,2, 4, 5, 7

Электромагнитные колебания и волны	задания Тест	ЛР 2, 4, 10	зачет	ЛР 2, 4, 10
Тема 5.1 Природа света	Практические задания Тест	ОК 1,2, 4, 5 ЛР 2, 4, 10	Дифференцированный зачет	ОК 1,2, 4, 5 ЛР 2, 4, 10
Тема 5.2 Волновые свойства света	Практические задания Тест	ОК 1,2, 4, 5 ЛР 2, 4, 10	Дифференцированный зачет	ОК 1,2, 4, 5 ЛР 2, 4, 10
Тема 5.3 Специальная теория относительности	Практические задания	ОК 1,2, 4, 5 ЛР 2, 4, 10	Дифференцированный зачет	ОК 1,2, 4, 5 ЛР 2, 4, 10
Тема 6.1 Квантовая оптика	Практические задания	ОК 1,2, 4, 5, 7 ЛР 2, 4, 10	Дифференцированный зачет	ОК 1,2, 4, 5, 7 ЛР 2, 4, 10
Тема 6.2 Физика атома и атомного ядра	Практические задания Тест	ОК 1,2, 4, 5, 7 ЛР 2, 4, 10	Дифференцированный зачет	ОК 1,2, 4, 5, 7 ЛР 2, 4, 10
Тема 7.1 Строение Солнечной системы	Практические задания	ОК 1,2, 3, 4, 5, 7 ЛР 2, 4, 10	Дифференцированный зачет	ОК 1,2, 3, 4, 5, 7 ЛР 2, 4, 10
Тема 7.2 Эволюция Вселенной	Практические задания	ОК 1,2, 3, 4, 5, 7 ЛР 2, 4, 10	Дифференцированный зачет	ОК 1,2, 3, 4, 5, 7 ЛР 2, 4, 10

2. Оценочные средства для проведения текущего контроля успеваемости

2.1 Примерные тестовые задания

Тема 2.3 Агрегатные состояния вещества и фазовые переходы

1. С увеличением относительной влажности разность показаний сухого и влажного термометров психрометра...

- 1) уменьшится.
- 2) увеличится.
- 3) не изменится.

2. Один моль влажного воздуха находится в ненасыщенном состоянии при температуре T и давлении p . Температуру газа изобарно увеличили. Как изменились при этом относительная влажность воздуха и точка росы?

Для каждой величины определите соответствующий характер изменения:

- 1) увеличилась
- 2) уменьшилась
- 3) не изменилась

Запишите в таблицу выбранные цифры для каждой физической величины.

Цифры в ответе могут повторяться.

Относительная влажность воздуха	Точка росы

3. С помощью какого прибора можно измерить относительную влажность воздуха.



1)



2)



3)



4)

4. Стекланную пластинку подвесили к динамометру. После этого ею прикоснулись к поверхности жидкости и оторвали от нее. Для какой жидкости – ртути, воды или керосина – динамометр покажет в момент отрыва силу больше?

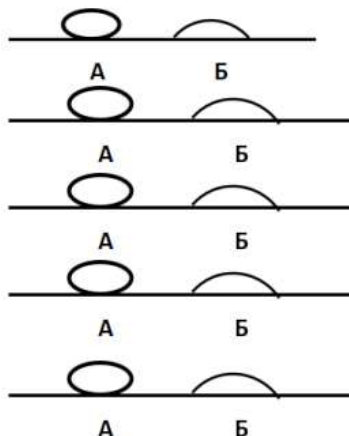
- 1) Для воды.
- 2) Для ртути.
- 3) Для керосина.
- 4) Показания будут одинаковые.

5. В двух капиллярных трубках одинакового радиуса находится вода и спирт (плотность спирта равна 800 кг/м^3 ; плотность воды – 1000 кг/м^3). Одна из этих жидкостей поднялась на 10 мм выше, чем другая. Выберите правильное утверждение.

- 1) Спирт поднялся выше, чем вода.
- 2) Вода поднялась выше, чем спирт.
- 3) Если радиус уменьшить, разность уровней жидкости уменьшится.
- 4) Среди утверждений нет правильного.

6. На стекле находятся капли воды и ртути. На каком рисунке ртуть?

- 1) А, т.к. ртуть смачивает стекло.
- 2) А, т.к. ртуть не смачивает стекло.
- 3) Б, т.к. ртуть смачивает стекло.
- 4) Б, т.к. ртуть не смачивает стекло.



7. Какое из перечисленных свойств характерно только для кристаллических тел?

- 1) Изотропность.
- 2) Отсутствие определенной температуры плавления.
- 3) Существование определенной температуры плавления.
- 4) Текучесть.

8. Какого вида деформацию испытывает стена здания?

- 1) Деформацию кручения.
- 2) Деформацию сжатия.
- 3) Деформацию сдвига.
- 4) Деформацию растяжения.

9. Какая из приведенных ниже формул выражает закон Гука?

- 1) $E = \sigma |\epsilon|$.
- 2) $\sigma = E / |\epsilon|$.
- 3) $\sigma = E |\epsilon|$.
- 4) $\sigma = |\epsilon| / E$.

10. Выберите все верные утверждения о физических явлениях, величинах и закономерностях. Запишите цифры, под которыми они указаны.

- 1) В герметически закрытом сосуде находятся вода и водяной пар. При нагревании сосуда концентрация молекул водяного пара увеличится.
- 2) Психрометр – прибор для измерения абсолютной влажности.
- 3) Точка росы – температура, при которой водяной пар становится насыщенным.
- 4) Пластическими называются деформации, которые полностью исчезают после прекращения действия внешних сил.
- 5) Все кристаллические тела анизотропны.

Ответы:

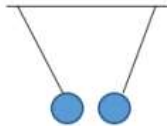
1	2	3	4	5	6	7	8	9	10
1	2, 3	4	1	1	2	3	2	3	1, 3, 5

Тема 3.1 Электрическое поле

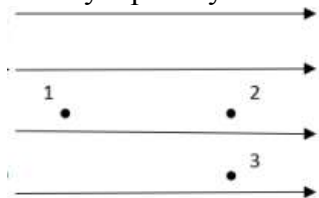
1. Как изменится сила взаимодействия двух точечных электрических зарядов при уменьшении расстояния между ними вдвое?

- 1) Не изменится.
 - 2) Увеличится в 4 раза.
 - 3) Уменьшится в 4 раза.
 - 4) Уменьшится в 2 раза.
2. Что можно сказать о зарядах данных шариков? (см. рис.)
- 1) Оба шарика заряжены положительно.
 - 2) Оба шарика заряжены отрицательно.

- 3) Один шарик заряжен положительно, другой – отрицательно.
 4) Шарики имеют заряды одного знака.



3. В ядре атома свинца 207 частиц. Вокруг ядра обращается 82 электрона. Сколько нейтронов и протонов в ядре этого атома?
- 1) 82 протона, 125 нейтронов.
 2) 125 протонов, 82 нейтрона.
 3) 82 протона, 207 нейтронов.
 4) 207 протонов, 82 нейтрона.
4. Как изменится напряженность электрического поля в некоторой точке от точечного заряда при увеличении заряда в 4 раза?
- 1) Увеличится в 16 раз.
 2) Увеличится в 2 раза.
 3) Увеличится в 4 раза.
 4) Не изменится.
5. Электрон перемещается в поле, силовые линии которого показаны на рисунке. Выберите правильное утверждение.
- 1) При перемещении электрона из точки 2 в точку 3 электрическое поле совершает положительную работу.
 2) При перемещении электрона по траектории 1-2-3-1 электрическое поле совершает отрицательную работу.
 3) При перемещении электрона из точки 1 в точку 2 электрическое поле совершает отрицательную работу.
 4) При перемещении электрона из точки 2 в точку 3 электрическое поле совершает отрицательную работу.



6. Какое из приведённых ниже выражений характеризует работу электрического поля по перемещению заряда?
- 1) q/U . 2) $E\Delta d$. 3) qU . 4) $E/\Delta d$.
7. Какая физическая величина определяется отношением потенциальной энергии электрического заряда в электрическом поле к величине этого заряда?
- 1) Потенциал электрического поля.
 2) Напряженность электрического поля.
 3) Электроемкость.
 4) Работа электростатического поля.
8. Воздушный конденсатор опускают в керосин с диэлектрической проницаемостью $\epsilon = 2$. Выберите правильное утверждение.
- 1) Электроемкость конденсатора уменьшится в 4 раза.
 2) Электроемкость конденсатора уменьшится в 2 раза.
 3) Электроемкость конденсатора увеличится в 2 раза.
 4) Электроемкость конденсатора не изменится.
9. Как изменится энергия электрического поля конденсатора, если напряжение между его обкладками уменьшить в 2 раза?
- 1) Уменьшится в 2 раза.
 2) Уменьшится в 4 раза.

- 3) Увеличится в 2 раза.
 4) Увеличится в 4 раза.
10. Выберите все верные утверждения о физических явлениях, величинах и закономерностях. Запишите цифры, под которыми они указаны.
- 1) Напряженность – силовая характеристика электрического поля.
 2) Электростатическое поле создают заряды, которые движутся равномерно в данной системе отсчета.
 3) В изолированной системе алгебраическая сумма зарядов всех тел сохраняется.
 4) Тела, через которые электрические заряды могут переходить от заряженного тела к незаряженному вследствие наличия в них свободных носителей зарядов, называются диэлектриками.

Ответы:

1	2	3	4	5	6	7	8	9	10
2	3	1	3	3	3	1	3	2	1, 3

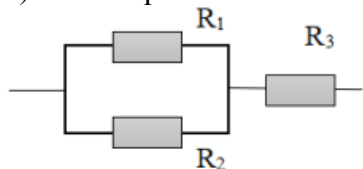
Тема 3.2 Законы постоянного тока

1. Во сколько раз отличаются сопротивления двух медных проводов, если один из них имеет в 4 раза большую длину и в 2 раза большую площадь поперечного сечения, чем другой?

- 1) В 8 раз. 2) В 4 раза. 3) В 2 раза. 4) В 16 раз.

2. На рисунке изображена схема соединения проводников. Выберите правильное утверждение.

- 1) Резисторы R1 и R3 включены последовательно.
 2) Резисторы R1 и R2 включены параллельно.
 3) Резисторы R2 и R3 включены последовательно.
 4) Резисторы R1 и R2 включены последовательно.



3. Какое из приведенных ниже выражений характеризует силу тока в полной цепи?

- 1) U / R . 2) $\rho l / S$. 3) $\mathcal{E} / (R + r)$. 4) $q / \Delta t$.

4. Необходимо измерить силу тока в лампе и напряжение на ней. Как следует включить по отношению к лампе амперметр и вольтметр?

- 1) Амперметр и вольтметр параллельно.
 2) Амперметр последовательно, вольтметр параллельно.
 3) Амперметр и вольтметр последовательно.
 4) Амперметр параллельно, вольтметр последовательно.

5. Физическая величина, характеризующая работу сторонних сил по разделению заряда 1 Кл внутри источника тока, называется...

- 1) ... сила тока.
 2) ... электродвижущая сила.
 3) ... напряжение.
 4) ... сопротивление.

6. Режим короткого замыкания в цепи возникает, когда ...

- 1) ... внешнее сопротивление цепи $R \Rightarrow 0$.
 2) ... внешнее сопротивление цепи $R \Rightarrow \infty$.
 3) ... внутреннее сопротивление источника тока очень мало.
 4) ... внешнее сопротивление цепи равно внутреннему сопротивлению источника.

7. Параллельно или последовательно с электрическим бытовым прибором в

квартире включают плавкий предохранитель на электрическом щите?

- 1) Независимо от электрического прибора.
 - 2) Параллельно.
 - 3) Последовательно.
 - 4) Среди ответов нет верного.
8. Электрическая цепь состоит из источника тока, амперметра и лампы.

Изменится ли показание амперметра, если в цепь включить параллельно ещё такую же лампу? Выберите правильное утверждение.

- 1) Уменьшится, так как сопротивление цепи возрастет.
- 2) Увеличится, так как сопротивление цепи уменьшится.
- 3) Не изменится.

9. Мощность электрического тока на участке цепи определяется следующим выражением:

- 1) $I \cdot U$.
- 2) $I \cdot R$.
- 3) $I \cdot U \cdot t$.
- 4) U / R .

10. Последовательно соединенные медная и стальная проволоки одинаковой длины и сечения подключены к аккумулятору (удельное сопротивление меди $1,7 \cdot 10^{-8}$ Ом·м; удельное сопротивление стали $12 \cdot 10^{-8}$ Ом·м). В какой из них выделится большее количество теплоты за одинаковое время?

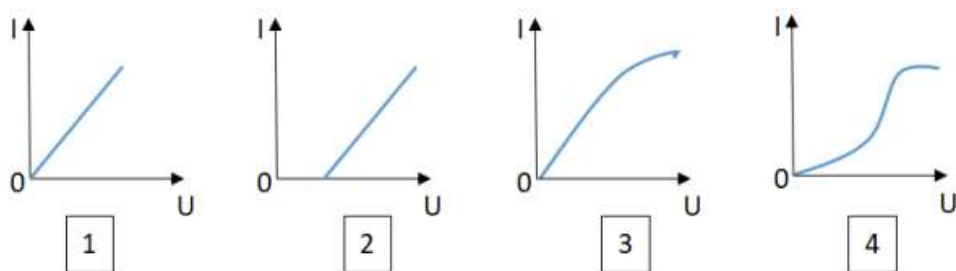
- 1) В медной.
- 2) В стальной.
- 3) Количество теплоты одинаковое.

Ответы:

1	2	3	4	5	6	7	8	9	10
3	2	3	2	2	1	3	2	1	2

Тема 3.3 Электрический ток в различных средах

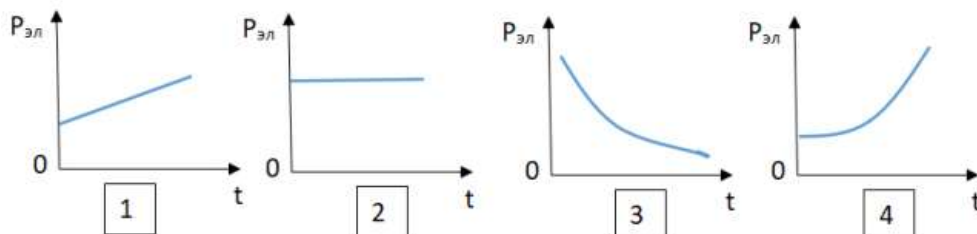
1. Электрический ток в газах создается движением ...
 - 1) ... свободных электронов.
 - 2) ... молекул.
 - 3) ... электронов, положительных и отрицательных ионов.
 - 4) ... дырок.
2. Укажите прибор, в котором можно создать ток только в одном направлении.
 - 1) Конденсатор.
 - 2) Резистор.
 - 3) Полупроводниковый диод.
 - 4) Катодка.
3. Выберите наиболее правильное продолжение фразы: «Термоэлектронная эмиссия – это явление, при котором ...»
 - 1) ... молекулы вылетают с поверхности проводника.
 - 2) ... свободные электроны вылетают с поверхности проводника.
 - 3) ... проводник заряжается, поглощая заряженные частицы из окружающей среды.
 - 4) ... свободные электроны вылетают с поверхности нагретого проводника.
4. Как называется процесс выделения вещества на электродах?
 - 1) Электролитическая диссоциация.
 - 2) Ионизация.
 - 3) Электролиз.
 - 4) Электризация.
5. Какой из графиков соответствует вольтамперной характеристике электролитов?



6. В четырёхвалентный кремний добавили в первом опыте пятивалентный химический элемент, а во втором – трёхвалентный элемент. Каким типом проводимости в основном будет обладать полупроводник в каждом случае?

- 1) В первом – дырочной, во втором – электронной.
- 2) В первом – электронной, во втором – дырочной.
- 3) В обоих случаях электронной.
- 4) В обоих случаях дырочной.

7. Какой из графиков соответствует зависимости удельного сопротивления полупроводников от температуры?



8. Какие частицы являются носителями заряда в металлах?

- 1) Свободные электроны.
- 2) Электроны и ионы.
- 3) Ионы.
- 4) Свободные электроны и дырки.

9. Как называется процесс создания носителей заряда в жидкостях?

- 1) Электролитическая диссоциация.
- 2) Ионизация.
- 3) Электролиз.
- 4) Электризация.

10. В донорных полупроводниках электропроводность...

- 1) ... собственная.
- 2) ... примесная электронная.
- 3) ... примесная дырочная.
- 4) ... эти материалы плохо проводят электрический ток.

Ответы:

1	2	3	4	5	6	7	8	9	10
3	3	4	3	2	2	3	1	1	2

Тема 3.5 Электромагнитная индукция

1. Какое из приведенных ниже выражений характеризует понятие электромагнитной индукции?

- 1) Явление, характеризующее действие магнитного поля на движущийся заряд.
- 2) Явление возникновения в замкнутом контуре электрического тока при изменении магнитного поля.
- 3) Явление возникновения ЭДС в проводнике под действием магнитного поля.

2. С помощью какого правила определяют направление индукционного тока?

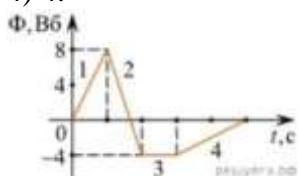
- 1) Правило правой руки.
- 2) Правило буравчика.
- 3) Правило левой руки.
- 4) Правило Ленца.
3. Укажите все правильные утверждения, которые отражают сущность явления электромагнитной индукции: «В замкнутом контуре электрический ток появляется...»

- 1) ... если магнитный поток не меняется.
- 2) ... если магнитный поток не равен нулю.
- 3) ... при увеличении магнитного потока.
- 4) ... при уменьшении магнитного потока.
4. Что определяется скоростью изменения магнитного потока через контур?

- 1) Индуктивность контура.
- 2) ЭДС индукции.
- 3) Магнитная индукция.
- 4) Индукционный ток.

5. На рисунке показан график зависимости магнитного потока, пронизывающего контур, от времени. На каком из участков графика в контуре не возникает ЭДС индукции?

- 1) 1.
- 2) 2.
- 3) 3.
- 4) 4.



6. Сила тока в катушке увеличилась в 2 раза. Выберите верное утверждение.

- 1) Индуктивность катушки увеличилась в 2 раза.
- 2) Индуктивность катушки увеличилась в $\sqrt{2}$ раз.
- 3) Индуктивность катушки уменьшилась в 2 раза.
- 4) Индуктивность катушки не изменилась.

7. Как уменьшить индуктивность катушки с железным сердечником при условии, что габариты обмотки (её длина и поперечное сечение) останутся неизменными?

- 1) Уменьшить число витков.
- 2) Уменьшить силу тока в катушке.
- 3) Вынуть железный сердечник.
- 4) Увеличить толщину обмотки.

8. Сила тока в контуре увеличилась в два раза. Укажите все правильные утверждения.

- 1) Энергия магнитного поля контура увеличилась в два раза.
- 2) Энергия магнитного поля контура увеличилась в четыре раза.
- 3) Энергия магнитного поля контура уменьшилась в два раза.
- 4) Энергия магнитного поля контура не изменилась.

9. Какое математическое выражение служит для определения ЭДС индукции в замкнутом контуре?

- 1) $-\Delta\Phi / \Delta t$.
- 2) $IB\Delta l \sin\alpha$.
- 3) $BS\cos\alpha$.
- 4) $BS\sin\alpha$.

10. Как нужно изменить индуктивность контура, для того чтобы при неизменном значении силы тока в нём энергия магнитного поля уменьшилась в 4 раза.

- 1) Уменьшить в два раза.
- 2) Уменьшить в четыре раза.
- 3) Увеличить в два раза.
- 4) Увеличить в четыре раза.

Ответы:

1	2	3	4	5	6	7	8	9	10
2	4	3, 4	2	3	4	3	2	1	2

Тема 4.1 Механические колебания и волны

1. Какие из перечисленных ниже колебаний являются вынужденными?

Укажите все правильные ответы.

1) Колебания качелей, раскачиваемых человеком, стоящим на земле.

2) Колебания груза на нити, один раз отведенного от положения равновесия и отпущенного.

3) Колебания диффузора громкоговорителя во время работы приемника.

4) Колебания чашек рычажных весов.

2. Подвешенный на нити груз совершает малые колебания. Считая колебания незатухающими, укажите все правильные утверждения.

1) Чем длиннее нить, тем больше частота колебаний.

2) При прохождении грузом положения равновесия скорость груза максимальна.

3) Груз совершает периодическое движение.

4) Период колебаний зависит от амплитуды.

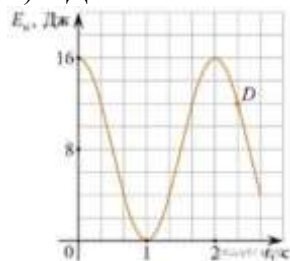
3. На рисунке представлен график зависимости потенциальной энергии математического маятника (относительно положения его равновесия) от времени. Какова полная механическая энергия маятника в момент времени, соответствующий на графике точке D?

1) 4 Дж.

2) 16 Дж.

3) 12 Дж.

4) 8 Дж.



4. Какое из приведенных ниже выражений определяет период колебаний груза массой m , подвешенного на пружине жесткостью k ?

1) $2\pi\sqrt{\frac{l}{g}}$ 2) $2\pi\sqrt{\frac{m}{k}}$ 3) $\frac{1}{2\pi}\sqrt{\frac{g}{l}}$ 4) $\frac{1}{2\pi}\sqrt{\frac{k}{m}}$

5. Как изменится период колебаний математического маятника, если длину нити уменьшить в 4 раза?

1) Уменьшится в 4 раза. 3) Увеличится в 4 раза.

2) Уменьшится в 2 раза. 4) Увеличится в 2 раза.

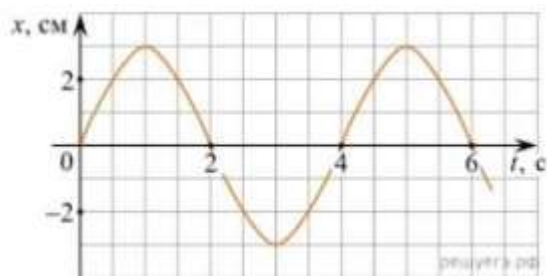
6. На рисунке приведен график гармонических колебаний. Укажите все правильные утверждения.

1) Амплитуда колебаний равна 2 см.

2) Период колебаний 2 с.

3) Частота колебаний 0,5 Гц.

4) Среди утверждений нет правильного



7. Каковы свойства продольных волн? Укажите все правильные ответы.
- 1) Эти волны могут распространяться только в газах.
 - 2) Продольные волны представляют собой чередующиеся разрежения и сжатия.
 - 3) Частицы среды при колебаниях смещаются вдоль направления распространения волны.
 - 4) Частицы среды при колебаниях смещаются перпендикулярно направлению распространения волны.

8. В каких направлениях совершаются колебания в поперечной волне?

- 1) Во всех направлениях.
- 2) Только по направлению распространения волны.
- 3) Только перпендикулярно распространению волны.
- 4) Среди ответов нет правильного.

9. Установите соответствие между примерами и физическими явлениями, которые эти примеры иллюстрируют. Для каждого примера проявления физических явлений из первого столбца подберите соответствующее название физического явления из второго столбца.

ПРИМЕРЫ

- А) эхо в лесу
- Б) определение глубины водоёма с помощью навигационного прибора эхолота

ФИЗИЧЕСКИЕ ЯВЛЕНИЯ

- 1) Огибание звуком препятствия
- 2) Явление полного внутреннего отражения
- 3) Отражение света
- 4) Отражение звука от препятствия

Запишите в таблицу выбранные цифры под соответствующими буквами.

А	Б

10. Какие из перечисленных ниже волн являются поперечными? Укажите все правильные ответы.

- 1) Волны на поверхности воды.
- 2) Звуковые волны в газах.
- 3) Радиоволны.

Ответы:

1	2	3	4	5	6	7	8	9	10
1	2, 3	2	2	2	4	2, 3	3	4, 4	1, 3

Тема 4.2 Электромагнитные колебания и волны

1. Как изменится частота электромагнитных колебаний в контуре L – C, если емкость конденсатора увеличить в четыре раза?

- 1) Увеличится в 4 раза.
- 2) Увеличится в 2 раза.
- 3) Уменьшится в 4 раза.
- 4) Уменьшится в 2 раза.

2. Значение силы переменного тока, измеренное в амперах, задано уравнением $i =$

$0,1\sin 100\pi t$. Укажите все правильные утверждения.

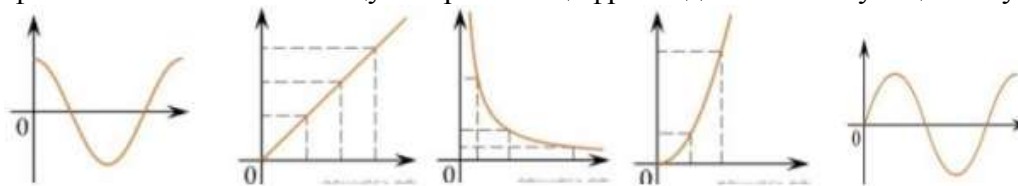
- 1) Амплитуда силы тока 0,1 А.
 - 2) Период равен 100 с.
 - 3) Частота равна 50 Гц.
 - 4) Циклическая частота 100 рад/с.
3. Даны следующие зависимости величин:

А) Зависимость напряжения на конденсаторе от времени в колебательном контуре, учитывая, что в начальный момент времени конденсатор заряжен.

Б) Зависимость энергии магнитного поля катушки с током от силы тока в ней.

В) Зависимость длины излучаемой электромагнитной волны от частоты колебаний заряда в металлическом проводнике.

Установите соответствие между этими зависимостями и видами графиков, обозначенных цифрами 1–5. Для каждой зависимости А–В подберите соответствующий вид графика и запишите в таблицу выбранные цифры под соответствующими буквами.



А	Б	В

4. Каким образом осуществляется передача электрической энергии из первичной обмотки трансформатора во вторичную обмотку? Укажите все правильные ответы.

- 1) Через провода, соединяющие обмотки трансформатора.
- 2) С помощью переменного магнитного поля, пронизывающего обе катушки.
- 3) С помощью электромагнитных волн.
- 4) Правильных ответов нет.

5. Какое из приведенных ниже выражений определяет понятие электромагнитное поле?

- 1) Процесс распространения колебаний заряженных частиц.
- 2) Особая форма материи, осуществляющая взаимодействие между заряженными частицами.
- 3) Особая форма материи, осуществляющая взаимодействие между любыми частицами.

6. В первичной обмотке трансформатора 100 витков, во вторичной обмотке – 20. Выберите все правильные утверждения.

- 1) Трансформатор является понижающим.
- 2) Трансформатор является повышающим.
- 3) Коэффициент трансформации равен 0,2.
- 4) Коэффициент трансформации равен 5.

7. Продолжите фразу: «Электромагнитная волна – это ...». Выберите все правильные утверждения.

- 1) ... процесс распространения колебаний электрической напряженности и магнитной индукции.
- 2) ... кратчайшее расстояние между двумя точками, колеблющимися в одинаковых фазах.
- 3) ... процесс распространения колебаний заряженных частиц.
- 4) ... процесс распространения электромагнитного поля от источника колебаний в пространстве.

8. Как ориентированы векторы магнитной индукции \vec{B} , электрической

напряженности \vec{E} и скорости \vec{c} по отношению друг к другу в электромагнитной волне?

- 1) $\vec{B} \perp \vec{E} \perp \vec{c}$; $\vec{B} \perp \vec{E} \perp \vec{c}$
- 2) $\vec{B} \perp \vec{c}$; $\vec{E} \parallel \vec{c}$; $\vec{B} \perp \vec{c}$; $\vec{E} \parallel \vec{c}$.
- 3) $\vec{B} \perp \vec{E} \perp \vec{c}$; $\vec{B} \perp \vec{E} \perp \vec{c}$.
- 4) $\vec{B} \parallel \vec{E} \parallel \vec{c}$; $\vec{B} \parallel \vec{E} \parallel \vec{c}$.

9. Какое устройство в приёмнике Попова регистрирует приём электромагнитных волн?

- 1) Электромагнитное реле.
- 2) Когерер.
- 3) Антенна.
- 4) Электрический звонок.

10. Продолжите фразу: «Процесс наложения колебаний одной частоты на колебания другой частоты называется...».

- 1) ... радиосвязь.
- 2) ... детектирование.
- 3) ... модуляция.
- 4) ... радиолокация.

Ответы:

1	2	3	4	5	6	7	8	9	10
4	1, 3	A-1 B-4	2	2	1, 4	1, 3, 4	3	2	3

Тема 5.1 Природа света

1. При переходе света из вакуума в прозрачную среду с абсолютным показателем преломления $n = 2$ скорость распространения...

- 1) ... увеличивается в 2 раза.
- 2) ... остается неизменной.
- 3) ... уменьшается в 2 раза.

2. Для нахождения предельного угла при падении луча на границу «стекловода» нужно использовать формулу. Выберите все правильные ответы.

- 1) $\sin \alpha_0 = n_c / n_b$.
- 2) $\sin \alpha_0 = n_c n_b$.
- 3) $\sin \alpha_0 = n_b / n_c$.

3. Луч переходит из воды в скипидар. На каком из рисунков правильно изображен ход луча? Показатель преломления воды 1,33, скипидара – 1,6.



- 1)
- 2)
- 3)
- 4)

4. Угол падения луча равен 50° . Угол отражения луча равен.

- 1) 90° . 2) 40° . 3) 50° . 4) 100° .

5. Предмет находится между фокусом F и двойным фокусом 2F рассеивающей

линзы. Изображение предмета ...

- 1) ... мнимое, прямое, увеличенное.
- 2) ... действительное, перевернутое, увеличенное.
- 3) ... мнимое, прямое, уменьшенное.
- 4) ... действительное, перевернутое, уменьшенное.

6. Световой пучок выходит из стекла в воздух. Что происходит при этом с частотой электромагнитных колебаний в световой волне и скоростью их распространения?

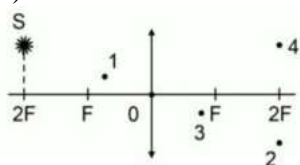
- 1) Частота и скорость увеличиваются.
- 2) Частота – увеличивается, скорость – уменьшается.
- 3) Частота и скорость не изменяются.
- 4) Частота – не изменяется, скорость – увеличивается.

7. Физическая величина, равная отношению светового потока, падающего на поверхность, к площади этой поверхности, называется ...

- 1) ... силой света.
- 2) ... яркостью.
- 3) ... освещенностью.
- 4) ... телесным углом.

8. Укажите точку, в которой находится изображение светящейся точки S (см. рисунок), создаваемое тонкой собирающей линзой.

- 1) 1.
- 2) 2.
- 3) 3.
- 4) 4.



9. Установите соответствие между оптическим прибором (устройством) и типом изображения, полученным с его помощью.

Оптические приборы		Тип изображения
А) Мультимедиа проектор Б) Дверной глазок		1) Уменьшенное, мнимое. 2) Увеличенное, действительное. 3) Уменьшенное, действительное. 4) Увеличенное, мнимое.
А	Б	

10. Выберите все верные утверждения о физических явлениях, величинах и закономерностях. Запишите цифры, под которыми они указаны.

- 1) В однородной прозрачной среде свет распространяется прямолинейно.
- 2) При преломлении электромагнитных волн на границе двух сред скорость волны не изменяется.
- 3) Явление полного внутреннего отражения может наблюдаться только при углах падения больше предельного.
- 4) Собирающая линза может давать как мнимые, так и действительные изображения.

Ответы:

1	2	3	4	5	6	7	8	9	10
3	3	2	3	3	4	3	2	2, 1	1, 3, 4

Тема 5.2 Волновые свойства света

1. Как изменится длина волны красного излучения при переходе света из воздуха в воду?
- 1) Уменьшается.
 - 2) Увеличивается.
 - 3) Не изменяется.
2. Какое из приведенных ниже выражений определяет понятие интерференции?
- 1) Наложение когерентных волн.
 - 2) Разложение света в спектр при преломлении.
 - 3) Огибание волной препятствий.
3. Какое из наблюдаемых явлений объясняется дифракцией света?
- 1) Излучение света лампой накаливания.
 - 2) Радужная окраска компакт-дисков.
 - 3) Радужная окраска тонких мыльных пленок.
 - 4) Радуга.
4. Свет какого цвета меньше других отклоняется призмой спектроскопа?
- 1) Фиолетового.
 - 2) Синего.
 - 3) Зеленого.
 - 4) Красного.
5. Какие из приведенных ниже выражений являются условием наблюдения главных максимумов в спектре дифракционной решетки с периодом d под углом φ ?
- 1) $d \sin \varphi = k \lambda$.
 - 2) $d \cos \varphi = k \lambda$.
 - 3) $d \sin \varphi = (2k + 1) \lambda/2$.
 - 4) $d \cos \varphi = (2k + 1) \lambda/2$.
6. Какое явление доказывает поперечность световых волн?
- 1) Дисперсия.
 - 2) Отражение.
 - 3) Преломление.
 - 4) Поляризация.
7. Какое из перечисленных ниже электромагнитных излучений имеет наименьшую длину волны?
- 1) Излучение видимого спектра.
 - 2) Радиоволны.
 - 3) Рентгеновское излучение.
 - 4) Ультрафиолетовое излучение.
8. Укажите все правильные ответы. Две световые волны являются когерентными, если ...
- 1) ... волны имеют одинаковую частоту ($\nu_1 = \nu_2$).
 - 2) ... волны имеют постоянную разность фаз колебаний ($\Delta\varphi = \text{const}$).
 - 3) ... волны имеют одинаковую частоту ($\nu_1 = \nu_2$) и постоянную разность фаз колебаний ($\Delta\varphi = \text{const}$).
 - 4) ... волны имеют разную частоту ($\nu_1 \neq \nu_2$) и постоянную разность фаз колебаний ($\Delta\varphi = \text{const}$).
9. Какие из излучений используются для исследования структуры и внутренних дефектов твердых тел и конструкций?
- А. Ультрафиолетовое излучение.
 - Б. Гамма-излучение.
 - В. Видимое излучение.
 - Г. Радиоволны.
 - Д. Рентгеновское излучение.
- 1) А.

- 2) А и Б.
- 3) А, В, Д.
- 4) Б и Д.

10. На рисунке приведены спектр поглощения разреженных атомарных паров неизвестного газа (в середине) и спектры поглощения паров водорода и гелия. В состав неизвестного газа входит(-ят) ...

- 1) Водород.
- 2) Гелий.
- 3) Водород и гелий.
- 4) Ни водород, ни гелий.



11. Два автомобиля движутся в одном и том же направлении со скоростями v_1 и v_2 относительно поверхности Земли. Скорость света от фар первого автомобиля в системе отсчета, связанной с другим автомобилем, равна:

- 1) $c + (v_1 + v_2)$.
- 2) c .
- 3) $c + (v_1 - v_2)$.

Ответы:

1	2	3	4	5	6	7	8	9	10	11
1	1	2	4	1	4	3	3	4	1	2

Тема 6.2 Физика атома и атомного ядра

1. Какие из приведенных ниже утверждений соответствуют смыслу постулатов Бора? Укажите все правильные ответы.

1) В атоме электроны движутся по круговым орбитам и излучают при этом электромагнитные волны.

2) Атом может находиться только в одном из стационарных состояний, в стационарных состояниях атом энергию не излучает.

3) Атом состоит из ядра и электронов. Заряд и почти вся масса атома сосредоточены в ядре.

4) При переходе из одного стационарного состояния в другое атом поглощает или излучает квант электромагнитного излучения.

2. Какое явление используется в оптических квантовых генераторах?

А. Спонтанное излучение.

Б. Индуцированное излучение.

1) А. 2) Б. 3) А и Б. 4) Ни А, ни Б.

3. Сравните силы ядерного притяжения между двумя протонами F_{pp} , двумя нейтронами F_{nn} , а также между протоном и нейтроном F_{pn} .

1) $F_{nn} > F_{pn} > F_{pp}$.

3) $F_{nn} \approx F_{pn} \approx F_{pp}$.

2) $F_{nn} \approx F_{pn} > F_{pp}$.

4) $F_{nn} < F_{pn} < F_{pp}$.

4. Что означают цифры у ядра атома азота ${}^{14}_7\text{N}$?

1) 7 – число электронов, 14 – число протонов.

2) 7 – число нейтронов, 14 – число протонов.

3) 7 – число протонов, 14 – число протонов и нейтронов.

4) 7 – число электронов, 14 – число нейтронов.

5. Что представляет собой β -излучение?

- 1) Поток быстрых электронов.
- 2) Поток нейтронов.
- 3) Поток квантов электромагнитного излучения.
- 4) Поток ядер гелия.

6. Элемент A_ZX испытал α -распад. Какой заряд и массовое число будет у нового элемента Y?

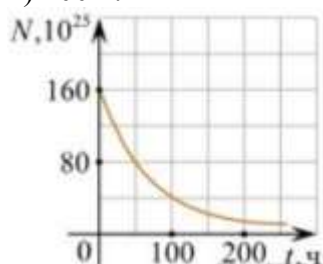
- 1) ${}^{A-4}_{Z+1}Y$.
- 2) ${}^{A-4}_{Z-2}Y$.
- 3) ${}^{A-2}_{Z-4}Y$.
- 4) ${}^A_{Z-1}Y$.

7. Каково соотношение между массой радиоактивного ядра $M_{\text{я}}$ и суммой масс свободных протонов $Z \cdot m_p$ и свободных нейтронов $N \cdot m_n$, из которых составлено это ядро. Укажите правильный ответ.

- 1) $M_{\text{я}} = (Z \cdot m_p + N \cdot m_n)$.
- 2) $M_{\text{я}} < (Z \cdot m_p + N \cdot m_n)$.
- 3) $M_{\text{я}} > (Z \cdot m_p + N \cdot m_n)$.

8. Дан график зависимости числа не распавшихся ядер эрбия от времени. Каков период полураспада этого изотопа эрбия?

- 1) 50 ч.
- 2) 100 ч.
- 3) 150 ч.
- 4) 200 ч.



9. Какое из приведенных ниже выражений определяет понятие цепная ядерная реакция? Укажите правильный ответ.

- 1) Процесс самопроизвольного распада ядер атомов некоторых химических элементов.
- 2) Процесс превращения атомных ядер, происходящий в результате их взаимодействия с элементарными частицами или друг с другом.
- 3) Процесс деления атомных ядер некоторых химических элементов, происходящий под действием нейтронов, образующихся в процессе самой ядерной реакции.

10. Какие вещества из перечисленных ниже могут быть использованы в ядерных реакторах в качестве замедлителей нейтронов?

- А. Графит. Б. Кадмий. В. Тяжелая вода. Г. Бор.
- 1) А и В.
 - 2) Б и Г.
 - 3) А и Б.
 - 4) В и Г.

Ответы:

1	2	3	4	5	6	7	8	9	10
2, 4	2	3	3	1	2	2	1	3	1

Критерии оценивания:

Оценка «отлично» выставляется обучающемуся, если он правильно ответил на 90-100% от общего числа вопросов тестовых заданий.

Оценка «хорошо» выставляется обучающемуся, если он правильно ответил на 70-

89% от общего числа вопросов тестовых заданий.

Оценка «удовлетворительно» выставляется обучающемуся, если он правильно ответил на 50-69% от общего числа вопросов тестовых заданий.

Оценка «неудовлетворительно» выставляется обучающемуся, если он правильно ответил менее чем на 50% от общего числа вопросов тестовых заданий.

2.2 Примерный перечень практических заданий (задач)

Задача №1.

Определите среднюю квадратичную скорость молекул одноатомного идеального газа, находящегося под давлением $5 \cdot 10^5$ Па, если концентрация молекул 10^{25} м^{-3} , а масса каждой молекулы $3 \cdot 10^{-26}$ кг.

Задача №2.

Определите массу азота в сосуде, емкостью $4 \cdot 10^{-3} \text{ м}^3$ наполненного под давлением $2 \cdot 10^5$ Па при температуре 30°C .

Задача №3.

За цикл тепловая машина получает от нагревателя количество теплоты 300 Дж и отдает холодильнику 250 Дж. Чему равен КПД тепловой машины?

Задача №4.

Определите среднюю кинетическую энергию поступательного движения молекул одноатомного идеального газа при давлении 10^6 Па. Концентрация молекул газа $2,7 \cdot 10^{25} \text{ м}^{-3}$.

Задача №5.

Кислород, находится под давлением 10^5 Па и занимает объем $2 \cdot 10^{-3} \text{ м}^3$. Какова температура кислорода массой $2 \cdot 10^{-2} \text{ кг}$?

Задача №6.

Смешали 40 л воды при температуре 20°C и 22 л при температуре 55°C . Определите температуру смеси.

Задача №7.

В керосине расположен заряд в $1,5 \cdot 10^{-9} \text{ Кл}$ и на расстоянии 0,006 м притягивает к себе второй заряд с силой $2 \cdot 10^{-3} \text{ Н}$. Найдите величину второго заряда.

Задача №8.

Какое сечение должен иметь медный провод, если при силе протекающего по нему тока 160А потеря напряжения составляет 8В. Длина провода, подводящего ток к потребителю, равна 70 м.

Задача №9.

Определите напряжение на зажимах батареи, если два элемента соединены параллельно. Первый элемент имеет ЭДС 2В и внутреннее сопротивление 0,6 Ом. Второй имеет ЭДС 1,5В и внутреннее сопротивление 0,4Ом.

Задача №10.

В керосине расположены два точечных заряда по $6 \cdot 10^6$ Кл. На каком расстоянии друг от друга надо расположить заряды чтобы, сила взаимодействия между ними была равна 0,6 Н.

Задача №11.

Определите силу тока, проходящего по медному проводу длиной 100м и площадью поперечного сечения $0,5 \text{ мм}^2$ при напряжении 6,8В.

Задача №12.

Чему равны ЭДС и внутреннее сопротивление батареи, если три одинаковые гальванических элемента с ЭДС 1,5В и внутренним сопротивлением 0,3 Ом соединены: а) последовательно; б) параллельно.

Задача №13.

Сколько витков должна содержать катушка с площадью поперечного сечения 50см^2 . При изменении магнитной индукции катушки от $0,2$ до $0,3$ Тл в течение 4 мс в ней возбуждалась ЭДС 10В .

Задача №14.

Определить время, в течение которого в обмотке выделится количество теплоты, равное энергии магнитного поля в сердечнике электромагнита. Обмотка электромагнита имеет индуктивность $0,8\text{Гн}$, сопротивление 15Ом и находится под постоянным напряжением.

Задача №15.

Сила Лоренца, действующая на электрон, равна $5 \cdot 10^{-13}$ Н. С каким ускорением движется электрон в однородном магнитном поле (вектор магнитной индукции перпендикулярен вектору скорости) с индукцией $0,06$ Тл.

Задача №16.

Какая сила тока возникает в проводнике, если его замкнуть накоротко? Сопротивление цепи $0,5\text{Ом}$. Проводник с активной длиной 20 см движется со скоростью 15 м/с перпендикулярно линиям индукции однородного магнитного поля с индукцией 3Тл .

Задача №17.

Найдите время изменения магнитного потока и силу индукционного тока, если сопротивление проводника $0,24\text{Ом}$, магнитный поток, пронизывающий контур проводника, равномерно изменился на $0,6$ Вб так, что ЭДС индукции оказалось равной $1,2\text{В}$.

Задача №18.

Определить центростремительную силу, действующую на протон в однородном магнитном поле с индукцией $0,02\text{Тл}$ (вектор магнитной индукции перпендикулярен вектору скорости), если радиус окружности, по которой он движется, равен 8 см.

Задача №19.

Ток в колебательном контуре изменяется со временем по закону $i=0,02\cos 628t$. Найти индуктивность контура, зная, что емкость его конденсатора $2 \cdot 10^{-5}\text{Ф}$.

Задача №20.

Трансформатор, содержащий в первичной обмотке 720 витков, повышает напряжение с 220 В до 600 В. Определите коэффициент трансформации, число витков во вторичной обмотке? Выясните, в какой обмотке провод имеет большую площадь поперечного сечения?

Задача №21.

В цепь переменного тока со стандартной частотой включена катушка с индуктивностью 80 мГн. Найдите действующее значение напряжения на данном участке цепи, если действующее значение силы тока равно 2 А.

Задача №22.

Значение силы тока, измеренное в амперах, задано уравнением $i=0,28\sin 507t$. Определите амплитуду силы тока, частоту и период.

Задача №23.

Напряжение в первичной обмотке трансформатора 120В , сила тока в ней 2А . Напряжение во вторичной обмотке 30 В. Определите коэффициент трансформации, силу тока во вторичной обмотке. Выясните, трансформатор является повышающим или понижающим.

Задача №24.

Определите индуктивное, емкостное, полное сопротивление цепи, сдвиг фаз между силой тока и напряжением. При условии, что в цепь переменного тока со стандартной частотой, последовательно включены резистор сопротивлением 21Ом , катушка с индуктивностью $0,08$ Гн, конденсатор емкостью 82 мкФ.

Задача №25.

Под каким углом виден первый максимум? Дифракционная решётка содержит 600 штрихов на 1 мм. На решётку падает свет длиной волны 500 нм.

Задача №26.

В некоторую точку пространства приходит излучение с оптической разностью хода волн 1,9 мкм. Определить, усилится или ослабнет свет в этой точке, если длина волны 500 нм.

Задача №27.

Длина волны желтого света паров натрия в воздухе равна 589 нм. Какова длина волны желтого света паров натрия в стекле с показателем преломления 1,56.

Задача №28.

На дифракционную решетку, направлена монохроматическая волна, постоянная которой равна 0,01 мм. Первый дифракционный максимум получен на экране, смещенном на 4 см от первоначального направления света. Расстояние между экраном и решеткой равно 70 см. Определить длину волны монохроматического излучения.

Задача №29.

Два когерентных луча с длинами волн 504 нм пересекаются в одной точке на экране, оптическая разность хода лучей равна 18,14 мкм. Что будет наблюдаться в этой точке: усиление или ослабление света.

Задача №30.

Длина волны, соответствующая красной линии спектра водорода, в вакууме равна 656,3 нм, а в стекле – 410 нм. Определить показатель преломления стекла для этого света?

Задача №31.

Найти величину запирающего напряжения для фотоэлектронов при освещении металла светом с длиной волны 350 нм. Красная граница фотоэффекта для металла $6,2 \cdot 10^{-5}$ см.

Задача №32.

Рассчитайте, за какое время количество атомов йода - 131 уменьшится в 2000 раз. Период полураспада радиоактивного йода - 131 равен 8 сут.

Задача №33.

Рассчитайте энергию связи и удельную энергию связи, дефект массы ядра углерода $^{12}_6\text{C}$.

Задача №34.

К вакуумному фотоэлементу, у которого катод выполнен из цезия, приложено запирающее напряжение 3 В. При какой длине волны падающего на катод света появится фототок.

Задача №35.

Определите дефект массы, энергию связи и удельную энергию ядра азота $^{14}_7\text{N}$.

Задача №36.

Ядро изотопа висмута $^{211}_{83}\text{Bi}$ получилось из другого ядра после последовательных α - и β -распадов. Что это за ядро?

Критерии оценивания:

Оценка «отлично» выставляется обучающемуся, если практическое задание правильно решено, приведена подробная аргументация своего решения, показано хорошее знание теоретических аспектов решения практического задания.

Оценка «хорошо» выставляется обучающемуся, если практическое задание правильно решено, приведена достаточная аргументация своего решения, показано определенное знание теоретического материала.

Оценка «удовлетворительно» выставляется обучающемуся, если практическое задание частично имеет правильное решение, аргументация не полная, не прослеживается знание теоретического материала.

Оценка **«неудовлетворительно»** выставляется обучающемуся, если практическое задание решено неверно, отсутствуют необходимые знания теоретического материала.

3. Оценочные средства для промежуточной аттестации

3.1 Примерный перечень вопросов к дифференцированному зачету

1. Механическое движение и его виды. Материальная точка. Скалярные и векторные физические величины. Относительность механического движения. Система отсчета.
2. Принцип относительности Галилея. Траектория. Путь. Перемещение.
3. Равномерное прямолинейное движение. Скорость. Уравнение движения. Мгновенная и средняя скорости. Ускорение.
4. Прямолинейное движение с постоянным ускорением. Движение с постоянным ускорением свободного падения.
5. Равномерное движение точки по окружности, угловая скорость. Центростремительное ускорение. Кинематика абсолютно твердого тела.
6. Основная задача динамики. Сила. Масса. Законы механики Ньютона. Силы в природе.
7. Сила тяжести и сила всемирного тяготения. Закон всемирного тяготения. Первая космическая скорость. Движение планет и малых тел Солнечной системы.
8. Вес. Невесомость. Силы упругости. Силы трения.
9. Импульс тела. Импульс силы. Закон сохранения импульса. Реактивное движение.
10. Механическая работа и мощность. Кинетическая энергия. Потенциальная энергия. Закон сохранения механической энергии.
11. Работа силы тяжести и силы упругости. Применение законов сохранения. Использование законов механики для объяснения движения 16 небесных тел и для развития космических исследований, границы применимости классической механики.
12. Основные положения молекулярно-кинетической теории. Размеры и масса молекул и атомов.
13. Броуновское движение. Строение газообразных, жидких и твердых тел.
14. Идеальный газ. Давление газа. Основное уравнение молекулярно-кинетической теории газов.
15. Температура и ее измерение. Абсолютный нуль температуры. Термодинамическая шкала температуры.
16. Температура звезд. Скорости движения молекул и их измерение. Уравнение состояния идеального газа.
17. Изопроцессы и их графики. Газовые законы.
18. Внутренняя энергия. Работа и теплопередача. Количество теплоты. Уравнение теплового баланса.
19. Первое начало термодинамики. Адиабатный процесс.
20. Второе начало термодинамики. Тепловые двигатели.
21. КПД теплового двигателя. Охрана природы.
22. Испарение и конденсация. Насыщенный пар и его свойства.
23. Относительная влажность воздуха. Приборы для определения влажности воздуха. Кипение. Зависимость температуры кипения от давления.
24. Характеристика жидкого состояния вещества. Ближний порядок. Поверхностное натяжение. Смачивание. Капиллярные явления. Характеристика твердого состояния вещества. Кристаллические и аморфные тела.
25. Электрические заряды. Элементарный электрический заряд. Закон сохранения заряда.
26. Закон Кулона. Электрическое поле. Напряженность электрического поля. Принцип суперпозиции полей.
27. Проводники в электрическом поле. Диэлектрики в электрическом поле. Поляризация диэлектриков.

28. Потенциал. Разность потенциалов. Эквипотенциальные поверхности. Связь между напряженностью и разностью потенциалов электрического поля.
29. Емкость. Конденсаторы. Энергия заряженного конденсатора. Применение конденсаторов.
30. Сила тока. Электрическое сопротивление. Закон Ома для участка цепи.
31. Параллельное и последовательное соединение проводников.
32. Работа и мощность постоянного тока. Тепловое действие тока Закон Джоуля—Ленца.
33. Электродвижущая сила источника тока. Закон Ома для полной цепи.
34. Электрический ток в металлах, в электролитах, газах, в вакууме. Электролиз. Закон 4 электролиза Фарадея.
35. Виды газовых разрядов. Термоэлектронная эмиссия. Плазма.
36. Электрический ток в полупроводниках. Собственная и примесная проводимости. P-n переход.
37. Полупроводниковые приборы. Применение полупроводников.
38. Вектор индукции магнитного поля. Взаимодействие токов. Сила Ампера. Применение силы Ампера.
39. Магнитный поток. Действие магнитного поля на движущийся заряд. Сила Лоренца. Применение силы Лоренца. Магнитные свойства вещества. Солнечная активность и её влияние на Землю. Магнитные бури.
40. Явление электромагнитной индукции. Закон электромагнитной индукции. Правило Ленца.
41. Вихревое электрическое поле. ЭДС индукции в движущихся проводниках. Явление самоиндукции.
42. Индуктивность. Энергия магнитного поля тока. Электромагнитное поле.
43. Гармонические колебания. Свободные механические колебания. Превращение энергии при колебательном движении.
44. Математический маятник. Пружинный маятник. Вынужденные механические колебания. Резонанс.
45. Поперечные и продольные волны. Характеристики волны. Звуковые волны. Ультразвук и его применение.
46. Свободные электромагнитные колебания. Превращение энергии в колебательном контуре. Период свободных электрических колебаний. Формула Томсона.
47. Затухающие электромагнитные колебания. Вынужденные электрические колебания. Переменный ток. Резонанс в электрической цепи. Генератор переменного тока.
48. Трансформаторы. Получение, передача и распределение электроэнергии. Электромагнитные волны. Свойства электромагнитных волн. Открытый колебательный контур. Опыты Г.Герца.
49. Изобретение радио А.С. Поповым. Понятие о радиосвязи. Принцип радиосвязи. Применение электромагнитных волн.
50. Точечный источник света. Скорость распространения света. Законы отражения и преломления света. Принцип Гюйгенса.
51. Солнечные и лунные затмения. Полное отражение.
52. Линзы. Построение изображения в линзах. Формула тонкой линзы. Увеличение линзы. Глаз как оптическая система. Оптические приборы. Телескопы
53. Интерференция света. Когерентность световых лучей. Интерференция в тонких пленках. Кольца Ньютона. Использование интерференции в науке и технике.
54. Дифракция света. Дифракция на щели в параллельных лучах. Дифракционная решетка.
55. Поляризация поперечных волн. Поляризация света. Поляроиды.
56. Дисперсия света. Виды излучений. Виды спектров. Спектры испускания. Спектры поглощения. Спектральный анализ. Спектральные классы звезд.

57. Ультрафиолетовое излучение. Инфракрасное излучение.
58. Рентгеновские лучи. Их природа и свойства. Шкала электромагнитных излучений.
59. Движение со скоростью света. Постулаты теории относительности и следствия из них.
60. Инвариантность модуля скорости света в вакууме. Энергия покоя. Связь массы и энергии свободной частицы. Элементы релятивистской динамики
61. Квантовая гипотеза Планка. Тепловое излучение. Корпускулярно-волновой дуализм. Фотоны. Гипотеза де Бройля о волновых свойствах частиц.
62. Давление света. Химическое действие света. Опыты П.Н. Лебедева и Н.И. Вавилова.
63. Фотоэффект. Уравнение Эйнштейна для фотоэффекта. Применение фотоэффекта
64. Развитие взглядов на строение вещества.
65. Модели строения атомного ядра. Ядерная модель атома. Опыты Э. Резерфорда. Модель атома водорода по Н. Бору.
66. Квантовые постулаты Бора.
67. Лазеры. Радиоактивность. Закон радиоактивного распада. Радиоактивные превращения. Способы наблюдения и регистрации заряженных частиц.
68. Строение атомного ядра. Дефект массы, энергия связи и устойчивость атомных ядер. Ядерные реакции.
69. Ядерная энергетика. Энергетический выход ядерных реакций. Искусственная радиоактивность. Деление тяжелых ядер. Цепная ядерная реакция. Управляемая цепная реакция.
70. Ядерный реактор. Термоядерный синтез. Энергия звезд. Получение радиоактивных изотопов и их применение. Биологическое действие радиоактивных излучений. Элементарные частицы.
71. Солнечная система: планеты и малые тела, система Земля - Луна.
72. Строение и эволюция Солнца и звезд. Классификация звезд. Звезды и источники их энергии. Галактика. Современные представления о строении и эволюции Вселенной.

Критерии оценивания (экзамен/дифференцированный зачет):

Оценка **«отлично»** выставляется обучающемуся, если он глубоко и прочно усвоил программный материал курса, исчерпывающе, последовательно, четко и логически стройно его излагает, умеет тесно увязывать теорию с практикой, свободно справляется с задачами и вопросами, не затрудняется с ответами при видоизменении заданий, правильно обосновывает принятые решения, владеет разносторонними навыками и приемами выполнения практических задач.

Оценка **«хорошо»** выставляется обучающемуся, если он твердо знает материал курса, грамотно и по существу излагает его, не допуская существенных неточностей в ответе на вопрос, правильно применяет теоретические положения при решении практических вопросов и задач, владеет необходимыми навыками и приемами их выполнения.

Оценка **«удовлетворительно»** выставляется обучающемуся, если он имеет знания только основного материала, но не усвоил его деталей, допускает неточности, недостаточно правильные формулировки, нарушение логической последовательности в изложении программного материала, испытывает затруднения при выполнении практических задач.

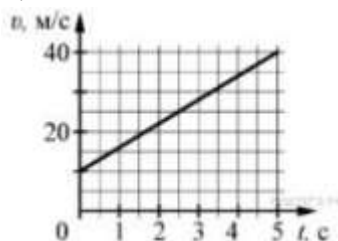
Оценка **«неудовлетворительно»** выставляется обучающемуся, если обнаруживается незнание процессов предметной области, отличающийся неглубоким раскрытием темы, незнанием основных вопросов теории, несформированными навыками

анализа явлений, процессов, не умением давать аргументированные ответы, отсутствием логичности и последовательности при изложении материала. Допускаются серьезные ошибки в содержании ответа.

3.2 Примерные тестовые задания

Вариант 1.

1.



На графике приведена зависимость скорости тела от времени при прямолинейном движении. Определите по графику ускорение тела. (Ответ дайте в метрах в секунду в квадрате.)

- А. 6 м/с^2
- Б. 8 м/с^2
- В. 15 м/с^2
- Г. 20 м/с^2

2. Автомобиль массой 1000 кг движется с постоянной по модулю скоростью по выпуклому мосту. Автомобиль действует на мост в верхней его точке с силой $F = 9000 \text{ Н}$. Сила, с которой мост действует на автомобиль, равна

- А) 1000 Н и направлена вертикально вверх
- Б) $19\,000 \text{ Н}$ и направлена вертикально вниз
- В) 9000 Н и направлена вертикально вниз
- Г) 9000 Н и направлена вертикально вверх

3. С балкона с высоты 5 м бросают мяч в горизонтальном направлении. Начальная скорость мяча 7 м/с , его масса $0,1 \text{ кг}$. Через 2 с после броска импульс мяча приблизительно равен

- А) 0
- Б) $2,1 \text{ кг м/с}$
- В) $0,7 \text{ кг м/с}$
- Г) $1,4 \text{ кг м/с}$

4. В каких телах — твёрдых, жидких или газообразных — происходит диффузия?

- А) только в жидких
- Б) только в твёрдых
- В) только в газообразных
- Г) в твёрдых, жидких и газообразных

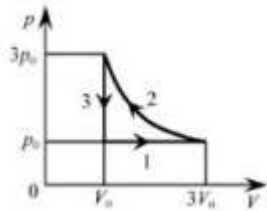
5. Сколько молекул содержится в капле воды массой $0,3 \text{ г}$?

- А. 10^{23}
- Б. 10^{22}
- В. $3 \cdot 10^{22}$
- Г. $6 \cdot 10^{22}$

6. Как изменится давление разреженного одноатомного газа, если при увеличении концентрации молекул газа в 3 раза его абсолютная температура увеличится в 2 раза?

- А) увеличится в 6 раз
- Б) увеличится в 2 раза
- В) уменьшится в 6 раз
- Г) останется без изменений

7.



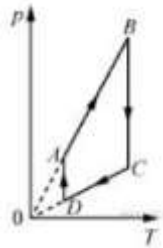
На pV -диаграмме отображена последовательность трёх процессов (1 → 2 → 3) изменения состояния 2 моль идеального газа. Какова эта последовательность процессов в газе?

- А) расширение → нагревание → охлаждение
- Б) расширение → охлаждение → сжатие при постоянной температуре
- В) нагревание → сжатие при постоянной температуре → охлаждение
- Г) нагревание → расширение → сжатие

8. Относительная влажность воздуха в закрытом сосуде 30%. Какой станет относительная влажность, если объём сосуда при неизменной температуре уменьшить в 3 раза?

- А) 60% Б) 90% В) 120% Г) 100%

9.



На рисунке представлен график циклического процесса, проведённого с одноатомным идеальным газом. На каком из участков внутренняя энергия газа увеличивалась? Количество вещества газа постоянно.

- А) DA; Б) BC; В) AB; Г) CD

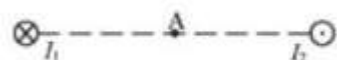
10. Силы электростатического взаимодействия между двумя точечными заряженными телами равны по модулю F . Как изменится модуль сил электростатического взаимодействия между этими телами, если заряд каждого тела увеличить в 3 раза?

- А) увеличится в 3 раза
- Б) увеличится в 9 раз
- В) уменьшится в 9 раз
- Г) уменьшится в 3 раза

11. Как изменится величина заряда, прошедшего через поперечное сечение проводника, если сила тока уменьшится в 2 раза, а время протекания тока в проводнике увеличится в 2 раза?

- А) не изменится
- Б) увеличится в 4 раза
- В) увеличится в 2 раза
- Г) уменьшится в 4 раза

12.



Магнитное поле $\vec{B} = \vec{B}_1 + \vec{B}_2$ создано в точке А двумя параллельными длинными проводниками с токами I_1 и I_2 , расположенными перпендикулярно плоскости чертежа.

Векторы \vec{B}_1 и \vec{B}_2 в точке А направлены в плоскости чертежа следующим образом:

- А) \vec{B}_1 — вниз, \vec{B}_2 — вверх
- Б) \vec{B}_1 — вверх, \vec{B}_2 — вверх
- В) \vec{B}_1 — вниз, \vec{B}_2 — вниз
- Г) \vec{B}_1 — вверх, \vec{B}_2 — вниз

13. Магнит выносится из алюминиевого кольца. Направление тока в кольце против часовой стрелки со стороны магнита. Каким полюсом магнит обращен к кольцу?

- А) положительным;
- Б) отрицательным;
- В) северным;
- Г) южным

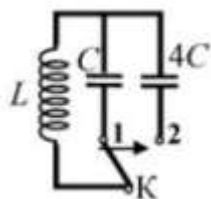
14.



Математический маятник с периодом колебаний T отклонили на небольшой угол от положения равновесия и отпустили с начальной скоростью, равной нулю (см. рисунок). Через какое время после этого потенциальная энергия маятника в первый раз вновь достигнет максимума? Сопротивлением воздуха пренебречь.

- А) $\frac{1}{4}T$ Б) $\frac{1}{8}T$ В) $\frac{1}{2}T$ Г) T

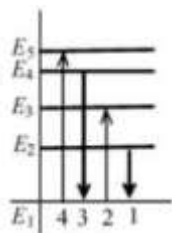
15.



Как изменится период собственных электромагнитных колебаний в контуре (см. рисунок), если ключ K перевести из положения 1 в положение 2?

- А) уменьшится в 4 раза
- Б) увеличится в 4 раза
- В) уменьшится в 2 раза
- Г) увеличится в 2 раза

16.



На рисунке изображена диаграмма энергетических уровней атома. Какой цифрой обозначен переход, который соответствует излучению фотона с наименьшей энергией?

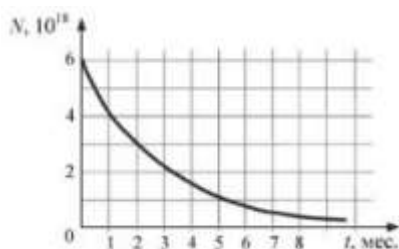
- А) 1 Б) 2 В) 3 Г) 4

17. На рисунке представлен фрагмент Периодической системы элементов Д. И. Менделеева. Под названием каждого элемента приведены массовые числа его основных стабильных изотопов. При этом нижний индекс около массового числа указывает (в процентах) распространённость изотопа в природе.

2	II	Li ЛИТИЙ 7 ₃ 6,94	3	Be БЕРИЛЛИЙ 9 ₄	4	5	B БОР 11 ₅ 10,81
3	III	Na НАТРИЙ 23 ₁₁ 22,99	11	Mg МАГНИЙ 24 ₁₂ 24,31	12	13	Al АЛЮМИНИЙ 27 ₁₃ 26,98
4	IV	K КАЛИЙ 39 ₁₉ 39,10	19	Ca КАЛЬЦИЙ 40 ₂₀ 40,08	20	21	Sc СКАНДИЙ 45 ₂₁
	V	Cu МЕДЬ 63 ₂₉ 63,55	29	Zn ЦИНК 64 ₃₀ 65,38	30	31	Ga ГАЛЛИЙ 69 ₃₁ 69,72

Число протонов и число нейтронов в ядре самого распространённого изотопа галлия соответственно равно

- А) 31 протон, 38 нейтронов
 - Б) 69 протонов, 31 нейтрон
 - В) 38 протонов, 31 нейтрон
 - Г) 38 протонов, 60 нейтронов
- 18.



На рисунке представлен график изменения числа ядер находящегося в пробирке радиоактивного изотопа с течением времени. Каков период полураспада этого изотопа?

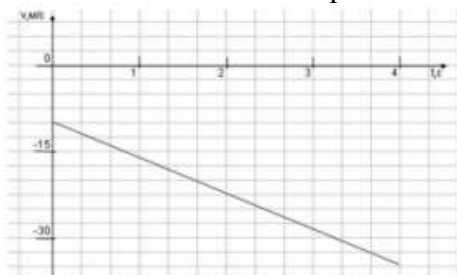
- А) 1 месяц
- Б) 2 месяца
- В) 4 месяца
- Г) 8 месяцев

Ответы:

1	2	3	4	5	6	7	8	9	10	11	12	13	14	15	16	17	18
А	Г	А	Г	Б	А	А	Б	В	Б	А	В	Г	В	Г	А	А	Б

Вариант 2.

1. На графике приведена зависимость скорости тела от времени при прямолинейном движении. Определите модуль ускорения тела.



- А. 6,25 м/с²
- Б. 10,25 м/с²
- В. 15 м/с²
- Г. 20 м/с²

2. Если массу тела увеличить в 2 раза, то сила тяжести действующая на него...

- А. Увеличится в 4 раза.
- Б. Увеличится в 2 раза.
- В. Уменьшится в 4 раза.
- Г. Уменьшится в 2 раза.

3. Мальчик массой 30 кг, бегущий со скоростью 3 м/с, вскакивает на платформу массой 15 кг. Чему равна скорость платформы с мальчиком?

- А. 1 м/с
- Б. 2 м/с

В. 6 м/с

Г. 15 м/с

4. Диффузия в жидкости происходит быстрее при повышении температуры, потому что с повышением температуры

А) увеличиваются силы взаимодействия молекул

Б) увеличивается скорость теплового движения молекул

В) жидкости расширяются

Г) уменьшаются силы взаимодействия молекул

5. Как изменится давление разреженного одноатомного газа, если абсолютная температура газа уменьшится в 2 раза, а концентрация молекул увеличится в 2 раза?

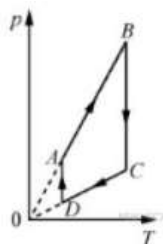
А) увеличится в 4 раза

Б) уменьшится в 4 раза

В) увеличится в 2 раза

Г) не изменится

6.



На рисунке представлен график цикла, проведённого с одноатомным идеальным газом. На каком из участков внутренняя энергия газа уменьшалась?

Количество вещества газа постоянно.

А) DA

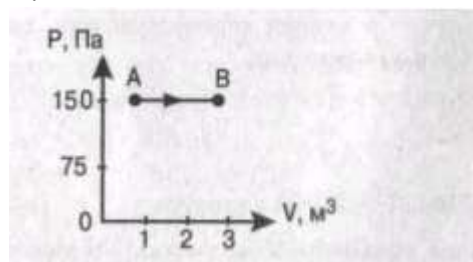
Б) AB

В) CD

Г) BC

7. Найти работу, совершенную газом при переходе из состояния А в состояние В.

В.



А. 150 Дж

Б. 450 Дж

В. 300 Дж

Г. 30 Дж

8. Как изменится сила взаимодействия двух точечных электрических зарядов при увеличении модуля одного из них в 3 раза? Выберите правильный ответ.

А. Увеличится в 3 раза.

Б. Уменьшится в 3 раза.

В. Увеличится в $\sqrt{3}$ раз.

Г. Уменьшится в $\sqrt{3}$ раз.

9. Найти заряд, создающий электрическое поле, если на расстоянии 3 см от заряда напряженность поля 0,15 МВ/м.

А. $1,5 \cdot 10^{-7}$ Кл

Б. $3 \cdot 10^{-9}$ Кл

В. $1,5 \cdot 10^{-8}$ Кл

Г. $3 \cdot 10^{-4}$ Кл

10. Определите сопротивление электрической лампы, сила тока в которой 0,5 А, при напряжении 120 В.

А. 0,00417 Ом

Б. 60 Ом

В. 140 Ом

Г. 240 Ом

11. Проводник с током 2 А и длиной активной части 10 см в поле с индукцией $4 \cdot 10^{-2}$ Тл расположен перпендикулярно силовым линиям магнитного поля. Определить силу, действующую на проводник.


А. $4 \cdot 10^{-3}$ Н

Б. $2 \cdot 10^{-3}$ Н

В. $8 \cdot 10^{-3}$ Н

Г. $8 \cdot 10^{-2}$ Н

12.



Магнитное поле $\vec{B} = \vec{B}_1 + \vec{B}_2$ создано в точке А двумя параллельными длинными проводниками с токами I_1 и I_2 расположенными перпендикулярно плоскости чертежа.

Векторы \vec{B}_1 и \vec{B}_2 в точке А направлены в плоскости чертежа следующим образом:

А) \vec{B}_1 — вверх, \vec{B}_2 — вверх

Б) \vec{B}_1 — вверх, \vec{B}_2 — вниз

В) \vec{B}_1 — вниз, \vec{B}_2 — вниз

Г) \vec{B}_1 — вниз, \vec{B}_2 — вверх

13. Магнит вносится в алюминиевое кольцо. Направление тока в кольце против часовой стрелки со стороны магнита. Каким полюсом магнит обращен к кольцу?

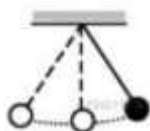
А) положительным;

Б) отрицательным;

В) северным;

Г) южным

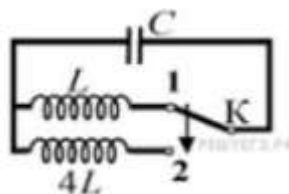
14.



Математический маятник с периодом колебаний T отклонили на небольшой угол от положения равновесия и отпустили без начальной скорости (см. рисунок). Через какое время после этого кинетическая энергия маятника в первый раз достигнет минимума? Сопротивлением воздуха пренебречь.

А) $\frac{1}{8}T$ Б) $\frac{1}{4}T$ В) $\frac{1}{16}T$ Г) $\frac{1}{2}T$

15.



Как изменится период собственных электромагнитных колебаний в контуре (см. рисунок), если ключ К перевести из положения 1 в положение 2?

- А) уменьшится в 2 раза
- Б) увеличится в 4 раза
- В) увеличится в 2 раза
- Г) уменьшится в 4 раза

16. Контур радиоприемника настроен на длину волны 50м. Как нужно изменить индуктивность катушки колебательного контура приемника, чтобы он был настроен на волну длины 25м?

- А. Увеличить в 2 раза. Б. Увеличить в 4 раза.
- В. Уменьшить в 2 раза. Г. Уменьшить в 4 раза.

17. Энергия фотонов при уменьшении длины световой волны в 2 раза:

- А) уменьшится в 2 раза. Б) уменьшится в 4 раза.
- В) увеличится в 2 раза. Г) увеличится в 4 раза.

18. Период полураспада некоторого радиоактивного изотопа равен 1 месяцу. За какое время число ядер этого изотопа уменьшится в 32 раза?

- А. 3 месяца Б. 4 месяца В. 5 месяцев Г. 6 месяцев

Ответы:

1	2	3	4	5	6	7	8	9	10	11	12	13	14	15	16	17	18
А	Б	Б	Б	Г	В	Б	А	В	Г	В	Г	В	Г	В	Г	В	В

Критерии оценивания:

Оценка «**отлично**» выставляется обучающемуся, если он правильно ответил на 90-100% от общего числа вопросов тестовых заданий.

Оценка «**хорошо**» выставляется обучающемуся, если он правильно ответил на 70-89% от общего числа вопросов тестовых заданий.

Оценка «**удовлетворительно**» выставляется обучающемуся, если он правильно ответил на 50-69% от общего числа вопросов тестовых заданий.

Оценка «**неудовлетворительно**» выставляется обучающемуся, если он правильно ответил менее чем на 50% от общего числа вопросов тестовых заданий.